

Milli Tədris Olimpiadası
Coğrafiya
II tur
2020-2021-ci illər

➤ **Seçimli cavabları olan sual – tapşırıq № 1-7**

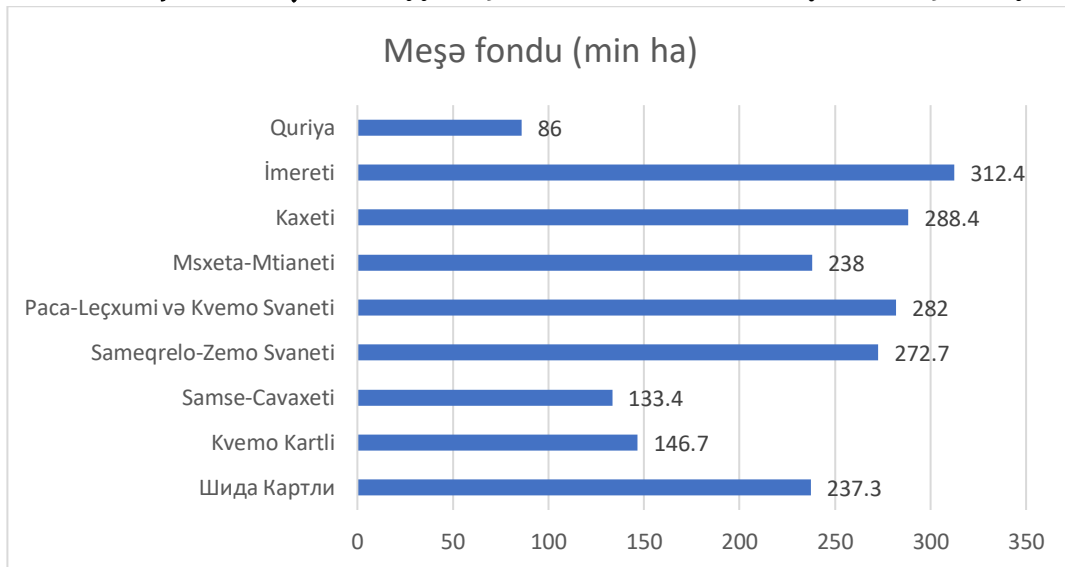
Təlimat

Hər suala ehtimal olunan dörd cavab verilir. Onlardan ancaq biri düzgündür. Seçilmiş cavabı cavablar vərəqinə bu qaydada keçirin: cavabların müvafiq hücrəsində X işarəsi qoyun. Başqa heç bir işarə qoymayın, üfqi yaxud şaquli xətlər, dairəyə almaq və s. elektron proqram tərəfindən qəbul olunmur. Əgər cavablar vərəqində göstərilmiş cavabı düzəltmək istəyirsinizsə, hücrəni bütünlüklə rəngləyin, ona X işarəsi qoyun və sonra cavabın yeni variantını işarə edin (yeni hücrədə X işarəsi qoyun). Düzəltdiyiniz cavabı təkrarən seçmək qeyri-mümkündür. Hər tapşırığa 1 xal verilir.

1. Gürcü qırmızı sortlu üzümdən hazırlanan, hansı ki, Leçxumi rayonunun Okureşi, Lasuriya və Zubi kəndlərində yetişdirilən kəmişirin qırmızı markalı şərabın adı nədir (az miqdarda istehsal olunur və ən bahalı sortlardan biridir)?

- ა) Kisi;
- ბ) Tvişi;
- გ) Usaxeluri;
- დ) Aladasturi.

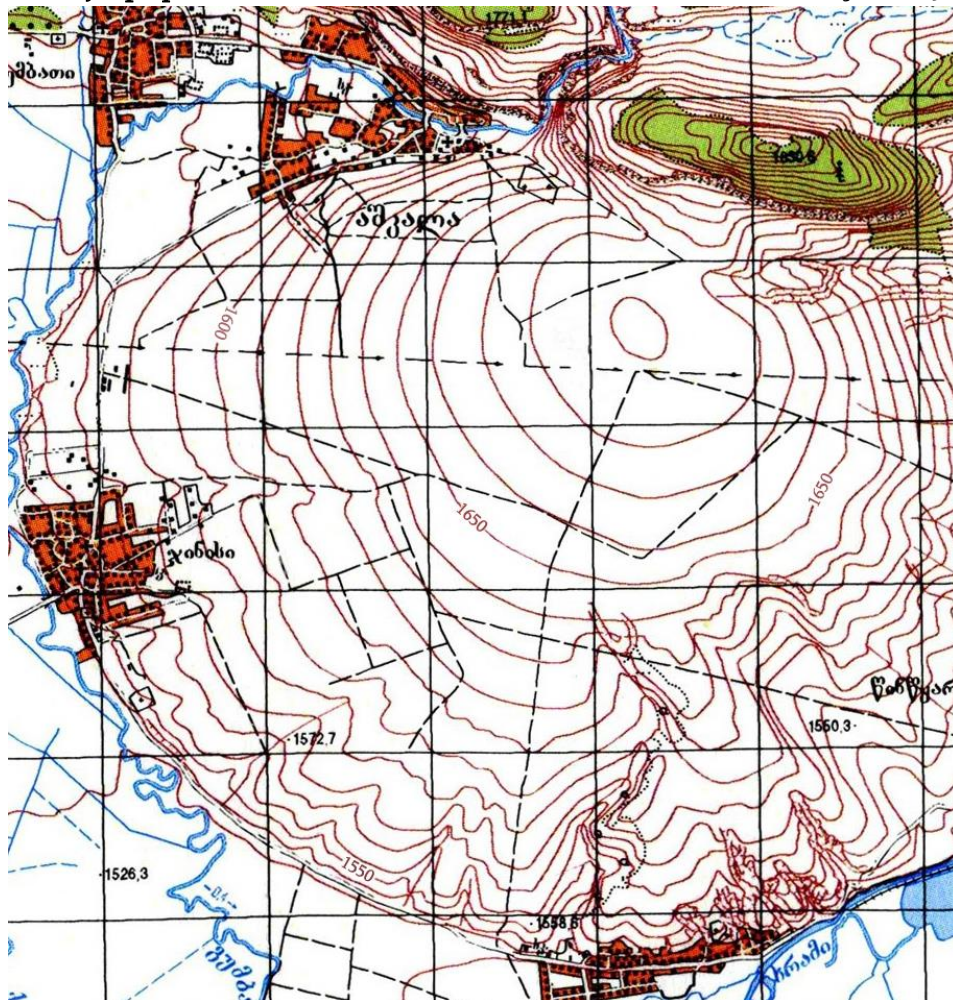
2. Verilmiş informasiyada müəyyənəldirin, sadalanan hansı rayonda meşə örtüyü daha çox sahəni əhatə edir?



- ა) Samsxe-Cavaxeti;
- ბ) Sameqrelo-Zemo Svaneti;
- გ) Kaxeti;
- დ) İmereti.

<i>Gürcüstanın regionları</i>	<i>Sahə (км²)</i>
<i>Şida Kartli</i>	3428.3
<i>Kvemo Kartli</i>	6436.2
<i>Samsxe-Cavaxeti</i>	6412.8
<i>Sameqrelo-Zemo Svaneti</i>	7468.2
<i>Raca-Leçxumi və Kvemo Svaneti</i>	4600
<i>Msxeta-Mtianeti</i>	5606
<i>Kaxeti</i>	11375
<i>İmereti</i>	6414.7
<i>Quriya</i>	2033.2

3. Verilmiş topoqrafik xəritədə horizontlar hansı intervalda və metrə çəkilmişdir?



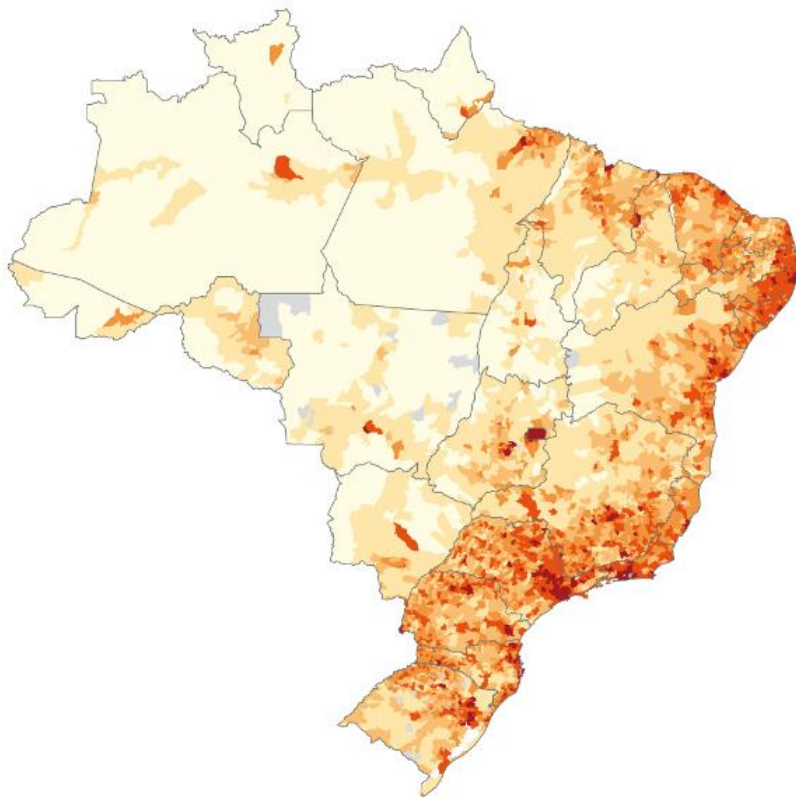
- ა) 5 მ.
- ბ) 10 მ.
- გ) 20 მ.
- დ) 50 მ.

4. İllüstrasiyada göstərilən relyef forması hansı mənşəlidir?



- ა) Qlasial;
- ბ) Karstik;
- გ) Abraziyalı;
- დ) Vulkanik.

5. Braziliyanın xəritəsində hansı informasiya verilmişdir?

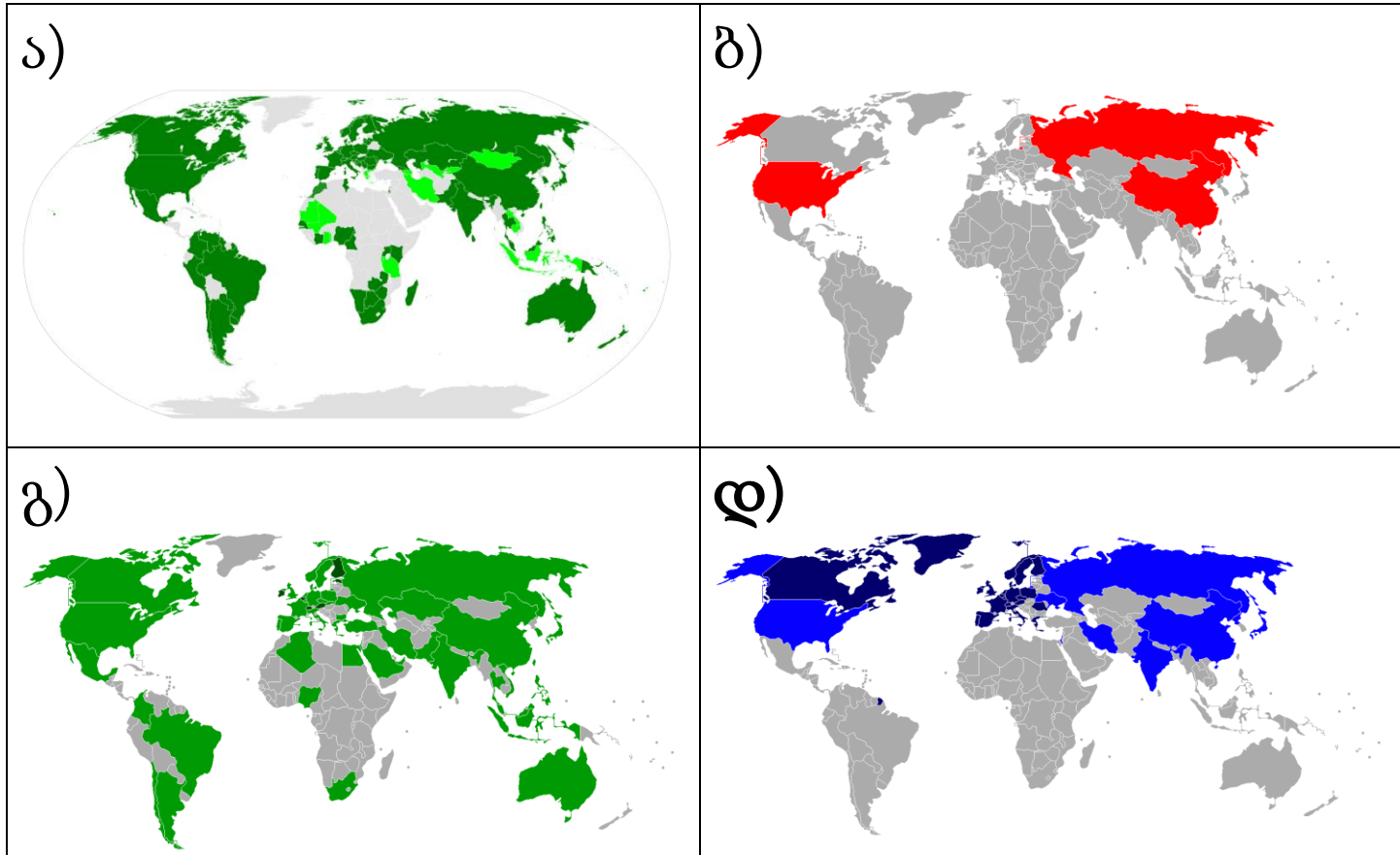


- а) Atmosfer çöküntülərinin bölünməsi;
- б) Əhalinin sıxlığı;
- в) Seysmik cəhətcə fəal zonalar;
- г) Əhalinin etnik strukturu.

6. Hansı məsələ Avropa İttifaqı ilə assosiasiya sazişinə əsasən tənzimlənmişdir:

- а) Gürcüstan vətəndaşlarının Avropa İttifaqında vizasız hərəkəti;
- б) Gürcüstan vətəndaşlarının Avropa ölkələrində işləmək hüququ;
- в) Gürcüstanda istehsal olunan məhsulların Avropa İttifaqı ölkələrinə ixracatı;
- г) Gürcüstanın Avropa Şurasında vetodan istifadə etmək hüququ.

7. Nə zamansa pilotlu kosmik gəmilərin uçuşlarını həyərə keçirmiş ölkələr hansı xəritədə göstərilmişdir?





➤ *Uyğunluğun müəyyən edilməsi – tapşırıq № 8-10*

Təlimat

Tapşırıqda verilmiş iki siyahı arasında uyğunluğu müəyyən edin. Cavabı cavablar vərəqində verilmiş cədvələ yazın. Hər hərfin altında müvafiq rəqəmi yazın. Xalların miqdarı konkret tapşırıq üzrə müəyyən edilir.

8. (6 k.) Uyğunluğu müəyyənləşdirin (nəzərə alın ki, cavabı təkrar etmək mümkün deyil):

	Foto		Dövlət (bayraq), harada ki, mənzil-qərargah yerləşir.
s	 <p>Boinq</p>	1	

8



Hyunday

2



8



Volvo

3



8



Eyrbas

4




3



Ferrari

5



3



Toyota

6



7



8




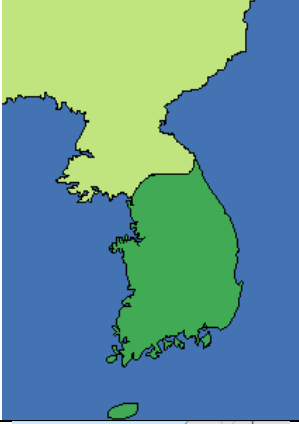


с	д	8	9	0	3







9. (6 k.) Uyğunluğu müəyyənəşdirin (nəzərə alın ki, cavabı təkrar etmək olmaz):




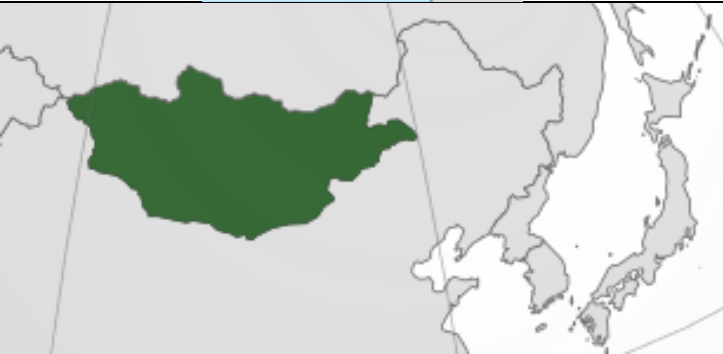



	Mineral bulaq		Tarixi-coğrafi əyalət
Տ	Sairme	1	Xevi
Ծ	Avadxara	2	Raca
Թ	Ucarma	3	Xevsureti
Պ	Usera	4	Quriya
Ս	Lebarde	5	İmereti
Յ	Nabeğlavi	6	Sameqrelo
		7	Abxaziya
		8	Tori
		9	Kaxeti

Տ	Ծ	Թ	Պ	Ս	Յ

10. (8 k.) Uyğunluğu müəyyənəşdirin (nəzərə alın ki, cavabı təkrar etmək olmaz):

	Valyuta		Dövlət (kontur)
Տ	 <p>Sekel</p>	1	
Ծ	 <p>Շն. Koreya vonu</p>	2	

8	 <p>Funt sterlinq</p>	3	
8	 <p>Türkiyə lirası</p>	4	
9	 <p>Ukrayna qrivnası</p>	5	

3	 <p>Yen</p>	6	
8	 <p>Hindistan rupiyası</p>	7	
9	 <p>Tuqrik</p>	8	
	9		

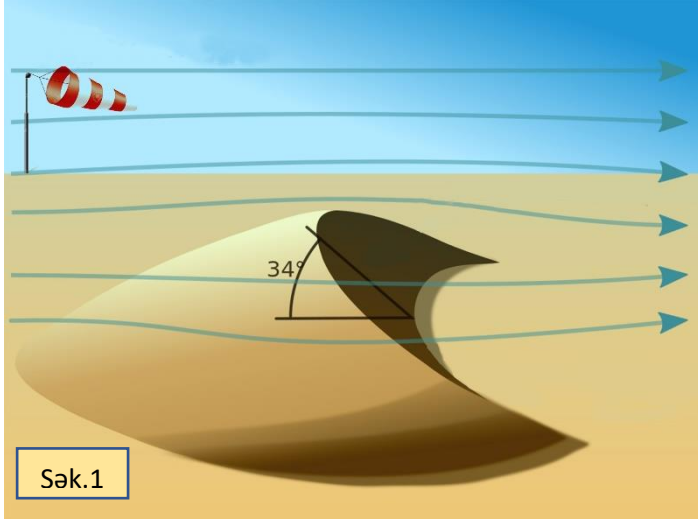
3	8	8	9	3	8	9

➤ *İnformasiyanın təhlili – tapşırıq № 11-12*

Təlimat

Tapşırıqda verilmiş informasiyanı təhlil edin və suallara cavab verin. Cavabı cavablar vərəqində ayrılmış müvafiq yerə yazın. Xalların miqdarı konkret tapşırıqə görə müəyyən edilir.

11. (5 k.) Verilmiş illüstrasiyanı təhlil edin və suallara cavab verin:



11.1. (1 k.) Şək.2-də hansı landşaft təsvir edilmişdir?


11.2. (2 k.) İllüstrasiyalarda göstərilən relyef formasına uyğun gələn iki termin sadalayın.-----

11.3. (1 k.) İllüstrasiyalarda göstərilmiş relyef formalarının hərəkəti nə ilə şərtlənir?

11.4. (1 k.) İllüstrasiyada göstərilən coğrafi obyektədən yaşayış məntəqəsinə baş verə biləcək ziyanın azaldılması məqsədilə hansı qabaqlayıcı tədbir görmək olar?

12. (8 k.) Veriimiş illustrasiyanı təhlil edin və suallara cavab verin:

Bu gəmi vaxtilə dünyada ən böyük sərnişin gəmisini idi, hansı ki, istismara 1912-ci ildə buraxılmışdı. 1912-ci il aprelin 15-də gəmi fəlakətə uğradı. Bu gəminin tarixi ən məşhur və əfsanəvi hadisələrdən biridir.



1912-ci ilin fotosu



Müasir şəkil



Marşrutun xəritəsi

12.1. (1 k.) Bu əfsanəvi gəmi necə adlanırdı?

12.2. (1 k.) Gəmi Şimali Atlantikada fəlakətə uğradı. Verilmiş xəritənin köməyi ilə fəlakətin coğrafi kordinatlarını müəyyənləşdirin.

12.3. (1 k.) Bu gəmi hansı dövlətə mənsub idi?

12.4. (2 k.) Həmin gəmi özünün ilk reysini hansı limanlar arasında həyata keçirirdi?

12.5. (1 k.) Xatırlanılan reys zamanı bu gəmi hansı dövlətin limanında ilk dayanacağına etdi?

12.6. (2 k.) Fəlakətə nə səbəb oldu və reysin aprel ayında yerinə yetirilməsi nəyə görə qeyd olunan fəlakətə təsir göstərdi?