

**Национальная учебная олимпиада  
по географии  
II тур  
2020-2021 гг**

➤ **Вопрос с выборочным ответом - задание № 1-7**

**Инструкция**

К каждому вопросу даны четыре ответа. Из них только один правильный. Выбранный ответ перенесите в лист ответов таким образом: в соответствующую клетку поставьте знак X. Ни одно другое обозначение - горизонтальные или вертикальные линии, обводка и т.п. электронной программой не идентифицируется. Если Вы желаете исправить помеченный ответ в листе ответов, целиком закрасьте клетку, в которую поставлен знак X, и после этого отметьте новый вариант ответа (поставьте знак X в новую клетку). Невозможно снова выбрать тот ответ, который Вы уже исправили. Каждое задание оценивается в 1 балл.

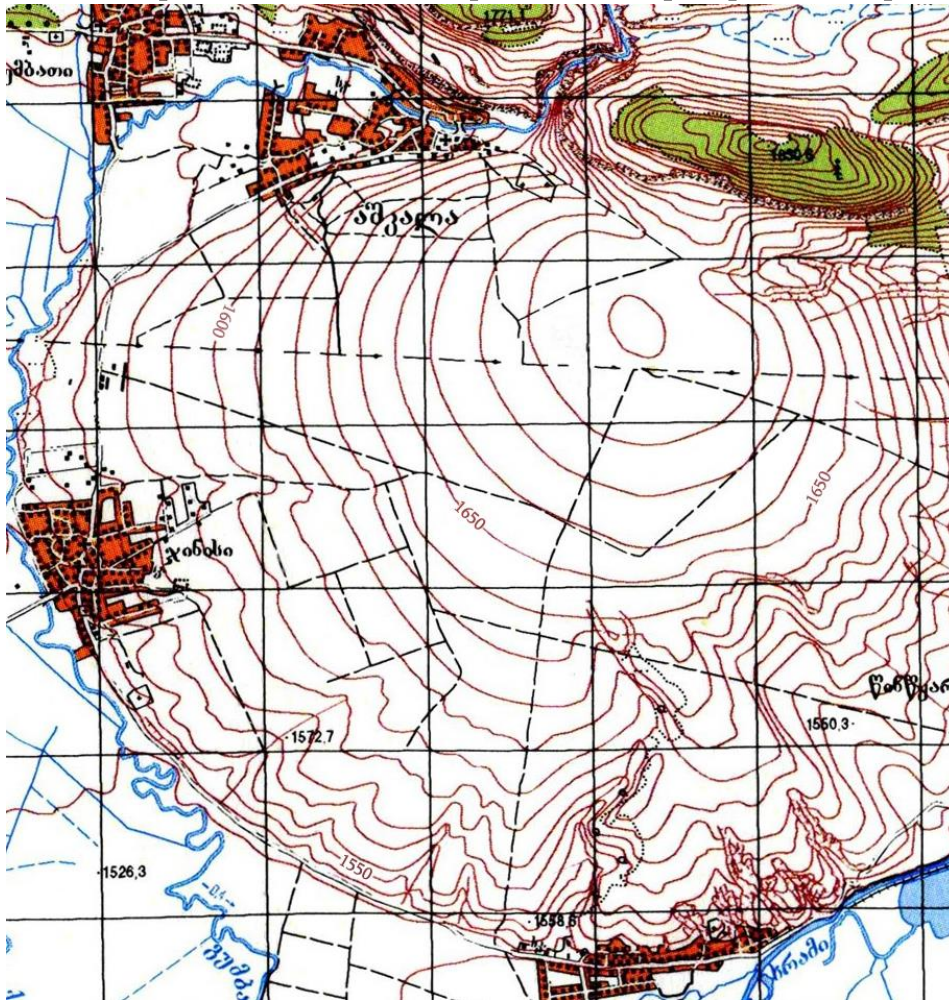
1. Как называется полусладкое красное марочное вино, которое сделано из сорта гузинского красного винограда произрастающего в сёлах Цагерского района: Окуреша, Ласуриаши и Зуби (производится в малых размерах и является одним из самых дорогостоящих)?
  - а) Киси;
  - б) Твиши;
  - в) Усахелоури;
  - г) Аладастури.
2. По данной информации определите: в каком из перечисленных регионов площадь леса имеет самый высокий показатель от общей площади региона?



- а) Самцхе-Джавахети;
- б) Самегрело-Земо Сванети;
- в) Кахети;
- г) Имерети.


<i>Регионы Грузии</i>	<i>Площадь (км<sup>2</sup>)</i>
<i>Шида Картли</i>	3428.3
<i>Квемо Картли</i>	6436.2
<i>Самцхе-Джавахети</i>	6412.8
<i>Самегрело-Земо Сванети</i>	7468.2
<i>Рача-Лечхуми и Квемо Сванети</i>	4600
<i>Мцхета-Мтианети</i>	5606
<i>Кахети</i>	11375
<i>Имерети</i>	6414.7
<i>Гурия</i>	2033.2

3. С каким интервалом на данной топографической карте проведены горизонтали?



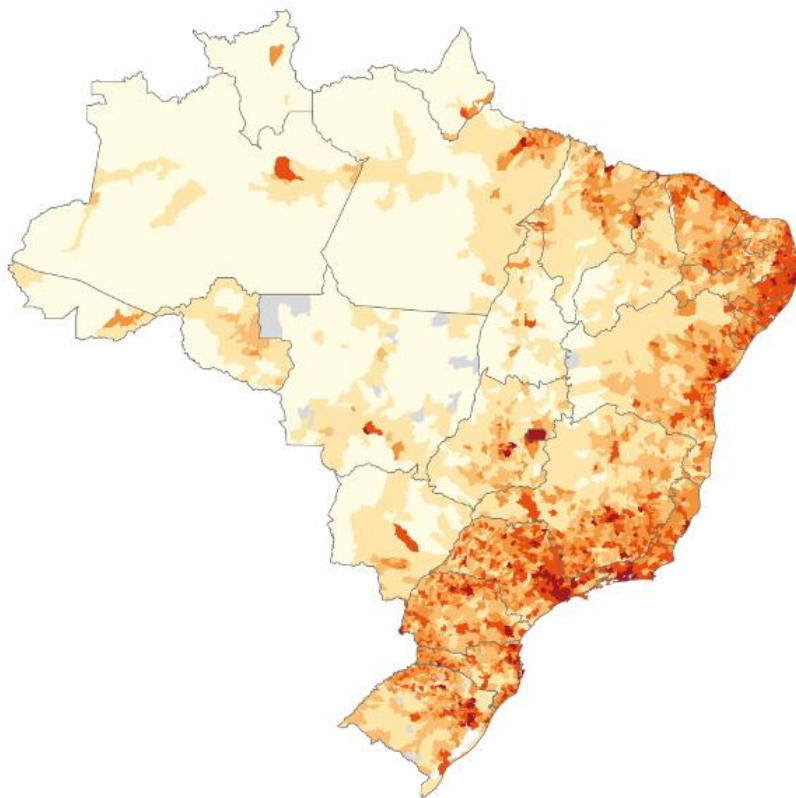
- ა) 5 მ.
- ბ) 10 მ.
- გ) 20 მ.
- დ) 50 მ.

4. Какого происхождения показанное на иллюстрации форма рельефа?



- ა) Гляциального;
- ბ) Карстового;
- გ) Абразионного;
- დ) Вулканического.

5. Какая информация дана на карте Бразилии?

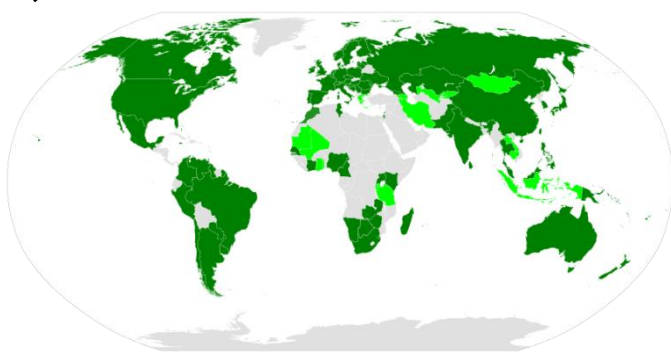
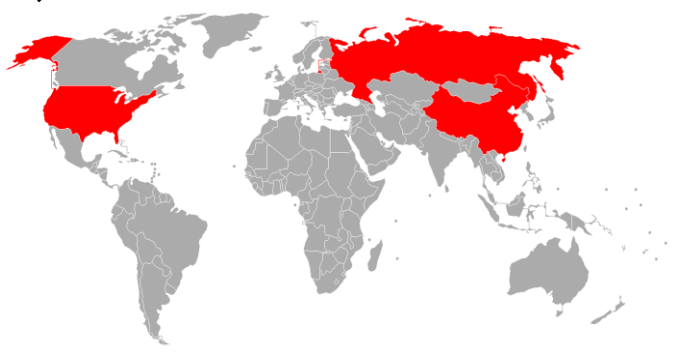
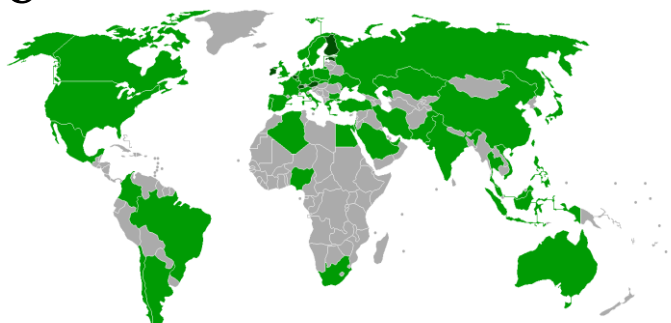
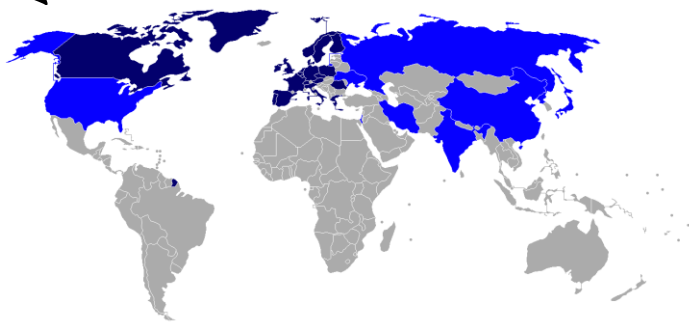


- а) Распределение атмосферных осадков;
- б) Плотность населения;
- в) Сейсмически активные зоны;
- г) Этнический состав населения.

6. Какой вопрос не регулируется по соглашению об ассоциации с Европейским Союзом:

- а) Безвизовое передвижения граждан Грузии в странах Евросоюза;
- б) Право на работу граждан Грузии в странах Евросоюза;
- в) Экспорт производимой в Грузии продукции в страны Евросоюза;
- г) Право Грузии на использование вето в Евросовете.

7. На какой карте показаны страны, которые когда-либо осуществили запуск пилотируемых космических кораблей?



<p>а)</p> 	<p>б)</p> 
<p>в)</p> 	<p>г)</p> 

➤ Установление соответствия - задание № 8-10

**Инструкция**

Установите соответствие между двумя перечнями, которые даны в задании. Ответы перенесите в таблицу, данную на листе ответов. Под каждой буквой запишите соответствующую цифру. Количество баллов определяется по каждому конкретному заданию.

8. (6 б.) Определите соответствие (учтите, что повтор ответа невозможен):

	Фото		Государство (флаг), где находится штаб-квартира
а	 <p>Боинг</p>	1	

8



Хюндай

2



8



Вольво

3



8



Эйрбас

4




3



Феррари

5




3



Тойота

6



7



8




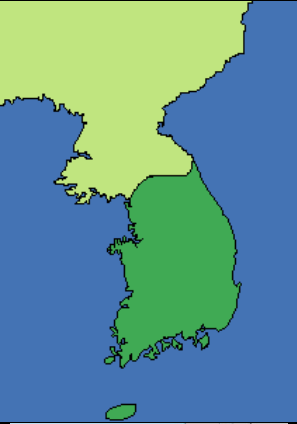


с	д	8	9	0	3

9. (6 б.) Определите соответствие (учтите, что повтор ответа невозможен):







Минеральный источник		Историко-географическая провинция	
ს	Саирме	1	Хеви
ბ	Авадхара	2	Рача
ზ	Уджарма	3	Хевсурети
ყ	Уцера	4	Гурия
ქ	Лебарде	5	Имерети
ვ	Набеглави	6	Самегрело
		7	Абхазия
		8	Тори
		9	Кахети




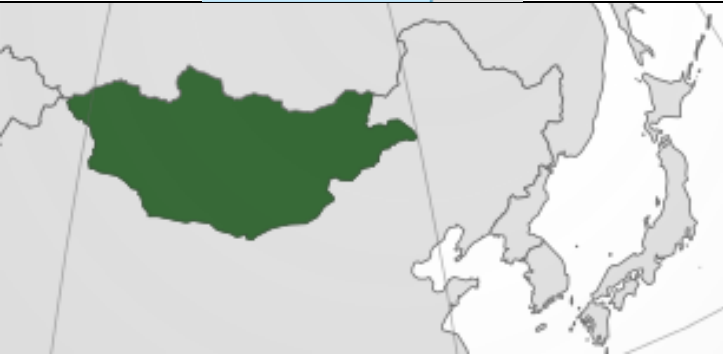



ს	ბ	ზ	ყ	ქ	ვ

10. (8 б.) Определите соответствие (учтите, что повтор ответа невозможен):

Валюта		Государство (контур)	
ს	 <p>Шекель</p>	1	
ბ	 <p>Юж. Корейская (Южнокорейская вона) Вона</p>	2	



8	 <p>Фунт стерлингов</p>	3	
6	 <p>Турецкая лира</p>	4	
0	 <p>Украинская гривна</p>	5	

3	 <p>Иена</p>	6	
8	 <p>Индийская рупия</p>	7	
9	 <p>Туррик</p>	8	
	9		


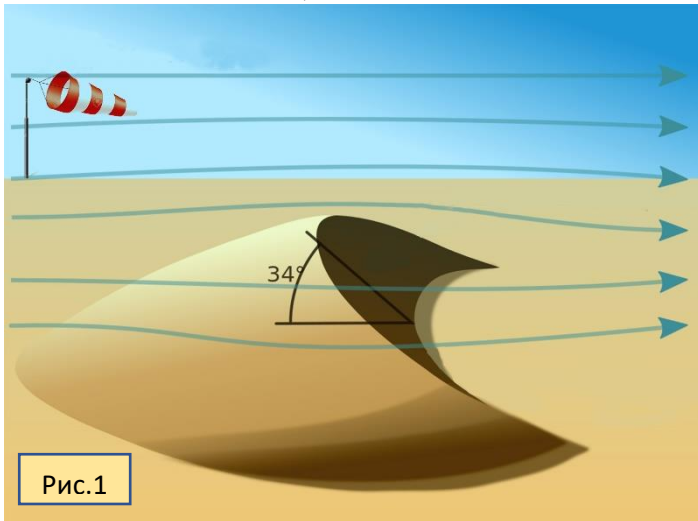
3	8	8	9	9	3	8	9

➤ **Анализ информации - задание № 11-12**

**Инструкция**

Проанализируйте данную в задании информацию и ответьте на вопросы. Ответы запишите в специально отведенном для этого месте на листе ответов. Количество баллов определяется по каждому конкретному заданию.

**11. (5 б.) Проанализируйте данные иллюстрации и ответьте на вопросы:**



**11.1. (1 б.)** Какой ландшафт изображён на рис. 2?

-----

**11.2. (2 б.)** Назовите два термина, которые соответствуют показанному на иллюстрациях форме рельефа.

-----

**11.3. (1 б.)** Чем обусловлено передвижение показанной на иллюстрациях формы рельефа?

-----


**11.4. (1 б.)** Какие превентивные меры следует предпринять, чтобы минимизировать ущерб, который может нанести показанный на иллюстрации географический объект населённым пунктам?

-----

-----

12. (8 б.) Проанализируйте данные иллюстрации и ответьте на вопросы:

Этот корабль в своё время был самым большим пассажирским лайнером в мире, который вошёл в эксплуатацию в 1912 году. 15 апреля 1912 года лайнер потерпел кораблекрушение. История этого корабля является одним из самых известных и легендарных.



Фотография 1912 года



Современная фотография



Карта маршрута

12.1. (1 б.) Как назывался этот легендарный корабль?

-----

12.2. (1 б.) Лайнер потерпел кораблекрушение в Северной Атлантике. С помощью данной карты определите географические координаты кораблекрушения?

-----

12.3. (1 б.) Какому государству принадлежал этот корабль?

-----

12.4. (2 б.) Между какими портами осуществлял свой первый рейс этот корабль?

-----

12.5. (1 б.) Во время упомянутого рейса в порту какого государства сделал этот корабль первую остановку?

-----

12.6. (2 б.) Что стало причиной этой катастрофы, и почему повлияло на эту катастрофу осуществления рейса в апреле?

-----