

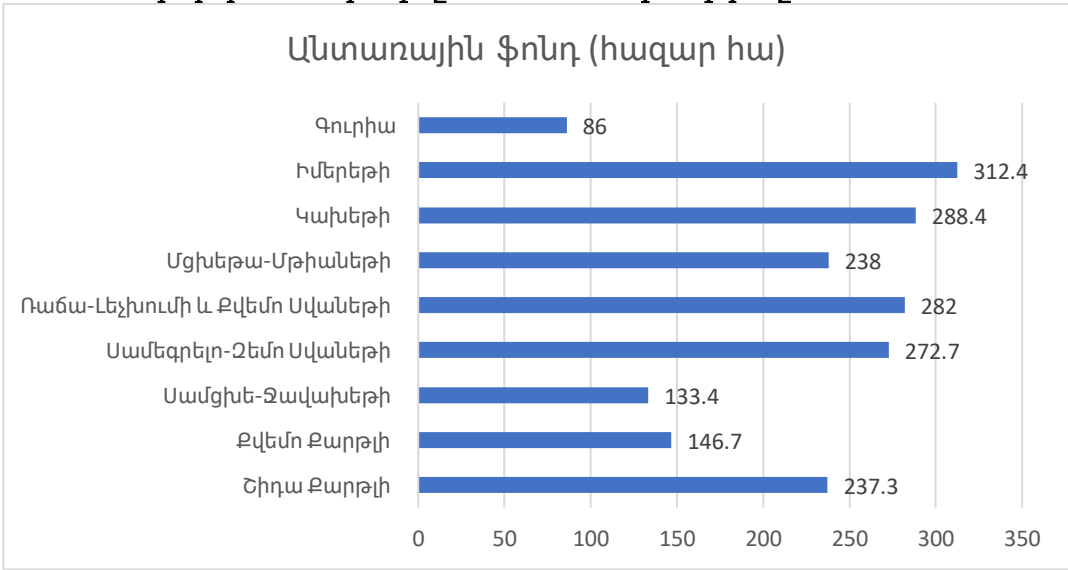
Ազգային ուսումնական օլիմպիադա  
աշխարհագրությունից  
II փուլ  
2020-2021 թթ.

• **Հարց ընտրովի պատասխաններով - առաջադրանք № 1-7**

**Հրահանգ**

Յուրաքանչյուր հարցին տրված է չորս ենթադրական պատասխան: Դրանցից միայն մեկն է ճիշտ: Ընտրած պատասխանը տեղափոխեք պատասխանների թերթիկի վրա, հետևյալ կերպ՝ պատասխանի համապատասխան վանդակում դրեք X նշանը: Ոչ մի այլ նշում, հորիզոնական կամ ուղղահայաց գծեր, շրջագծումներ և այլն, չի ընկալվի էլեկտրոնային ծրագրի կողմից: Եթե ցանկանում եք ուղղել պատասխանների թերթիկում նշած պատասխանը, ամբողջությամբ ներկեք վանդակը, որտեղ դրել եք X նշանը և այնուհետև նշեք պատասխանի նոր տարբերակը (դրեք X նշանը նոր վանդակում): Կրկին անգամ ընտրել այն պատասխանը, որն արդեն ուղղել եք, հնարավոր չէ: Յուրաքանչյուր առաջադրանք գնահատվում է 1 միավոր:

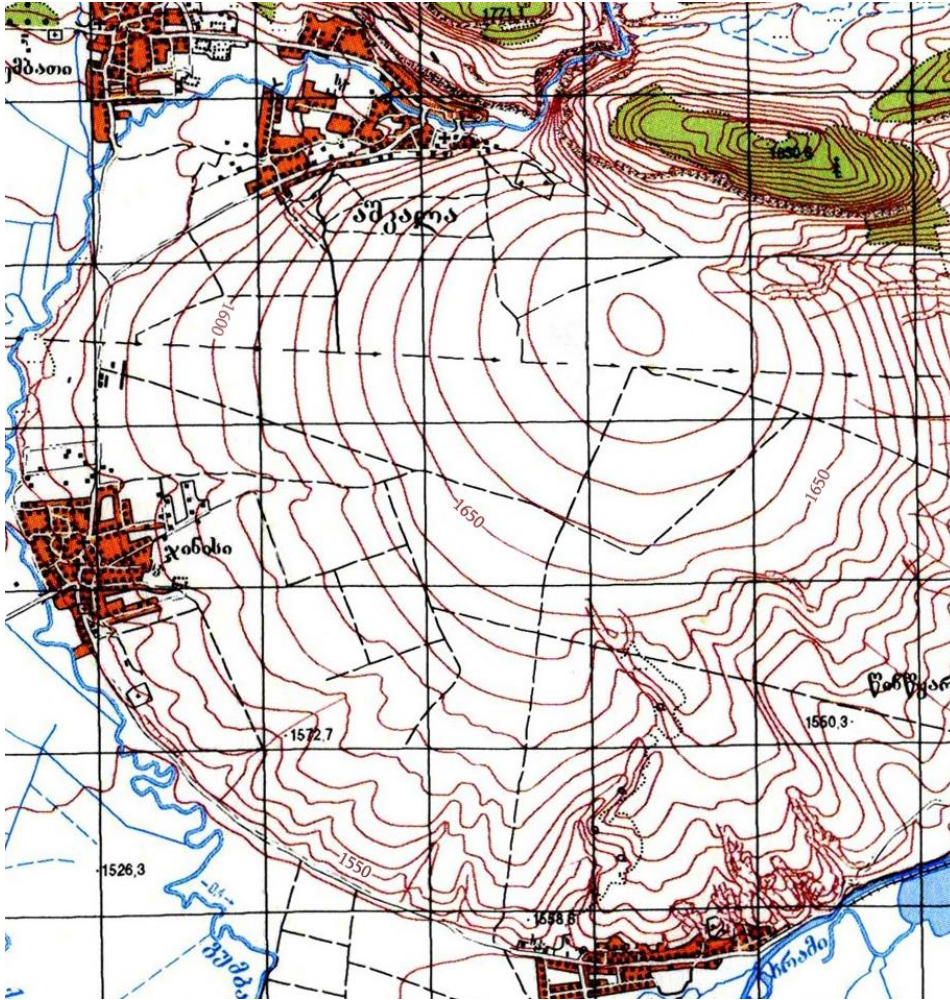
1. Ինչպե՞ս է կոչվում Ցագերիի շրջանի Իդուրեշի, Լասուրիաշի և Ջուբի գյուղերի խաղողի այգիներում աճեցրած վրացական կարմիր խաղողի տեսակից պատրաստած կիսաքաղցր կարմիր տեսակավոր գինին (արտադրվում է շատ քիչ քանակությամբ և ամենաթանկարժեք գինիներից մեկն է):
  - ա) Քիսի,
  - ծ) Տվիշի,
  - ց) Ուսախելոուրի,
  - զ) Ալադաստուրի:
2. Տրված տեղեկատվության համաձայն որոշեք, թե թվարկածներից ո՞ր տարածաշրջանում է զբաղեցնում ամենաբարձր մասնաբաժինը անտառածածկ մակերեսը:



- ա) Սամցխե-Ջավախեթի,
- ծ) Սամեգրելո-Չեմո Սվանեթի,
- ց) Կախեթի,
- զ) Իմերեթի:

Վրաստանի տարածաշրջաններ	Մակերես (կմ <sup>2</sup> )
Ծիղա Քարթլի	3428.3
Քվեմո Քարթլի	6436.2
Սամցխե-Ջավախեթի	6412.8
Սամեգրելո-Չեմո Սվանեթի	7468.2
Ռաճա-Լեչխումի և Քվեմո Սվանեթի	4600
Մցխեթա-Մթիանեթի	5606
Կախեթի	11375
Իմերեթի	6414.7
Գուրիա	2033.2

3. Տվյալ տեղագրական քարտեզի վրա քանի՞ մետրի վրա են տարված հորիզոնականները:



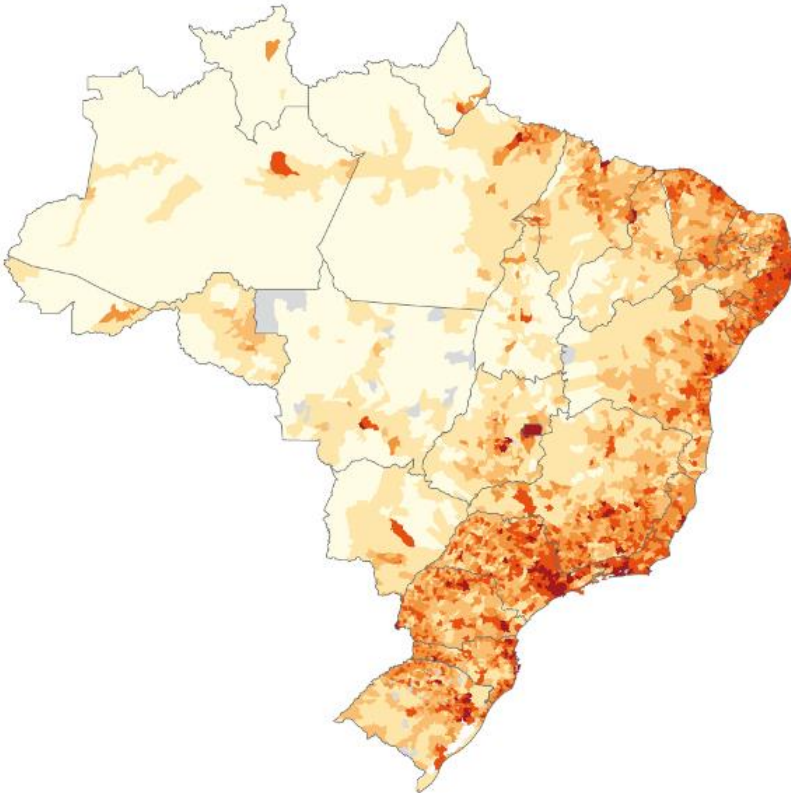
- ա) 5 մ.
- բ) 10 մ.
- գ) 20 մ.
- դ) 50 մ.

4. Ի՞նչ ծագում ունի նկարում պատկերված ռելիեֆի ձևը:



- ա) սառցադաշտային,
- բ) կարստային,
- գ) աբրազիական,
- դ) հրաբխային:

5. Ի՞նչ տեղեկատվություն է ներկայացված Բրազիլիայի քարտեզի վրա:



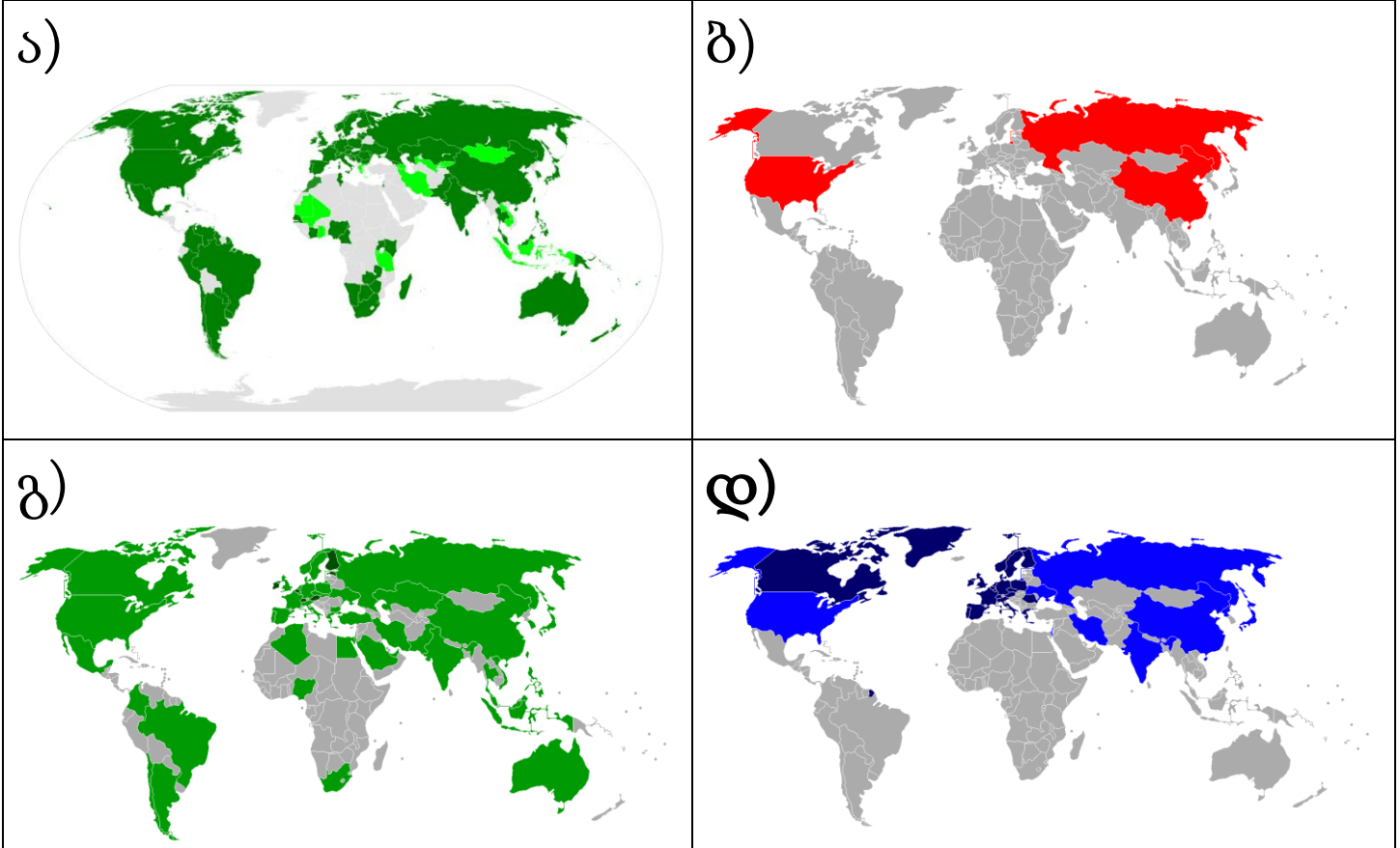
- ա) մթնոլորտային տեղումների բաշխումը,
- ծ) բնակչության խտությունը,
- ց) սեյսմիկ ակտիվ գոտիները,
- զ) բնակչության էթնիկ կազմը:

6. Ո՞ր հարցը չի կարգավորվում Եվրոպական Միության հետ ստացման պայմանագրի համաձայն:

- ա) Վրաստանի քաղաքացիների երթևեկությունը Եվրամիության երկրներ առանց մուտքի արտոնագրերի,
- ծ) Վրաստանի քաղաքացիների աշխատանքի իրավունքը Եվրամիության երկրներում,
- ց) Վրաստանում արտադրված ապրանքների արտահանումը Եվրամիության երկրներ,
- զ) Վրաստանի կողմից Եվրախորհրդում վետո օգտագործելու իրավունքը:



7. Ո՞ր քարտեզի վրա են պատկերված այն երկրները, որոնք երբևէ արձակել են օդաչուավոր տիեզերանավեր:





➤ Համապատասխանության որոշում - առաջադրանք № 8-10

**Հրահանգ**

Որոշեք համապատասխանությունը առաջադրանքում տրված երկու թվարկացանկի միջև: Պատասխանը գրեք պատասխանների թերթիկում տրված աղյուսակում, յուրաքանչյուր տառի տակ գրելով համապատասխան թվանշանը: Միավորների քանակը սահմանվում է ըստ կոնկրետ առաջադրանքի:

8. (6 մ.) Որոշեք համապատասխանությունը (հաշվի առեք, որ պատասխանը հնարավոր չէ կրկնել):

	Լուսանկար		Պետություն (դրոշ), որտեղ գտնվում է կենտրոնական գրասենյակը
Տ	 <p>Բոինգ</p>	1	

<p>ծ</p>		<p>2</p>	
<p>ծ</p>		<p>3</p>	
<p>Յ</p>		<p>4</p>	

Հյունդայ

Վոլվո


Էյրբաս

Չ



Ֆերրարի

5



3



Տոյոտա

6



7



8




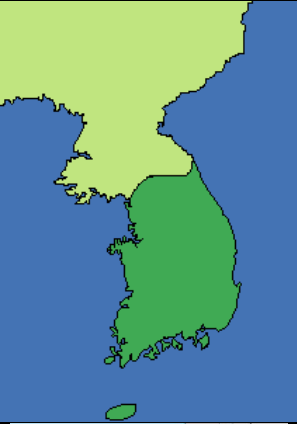


Տ	Ծ	Ց	Ք	Չ	Յ

9. (6 մ.) Որոշեք համապատասխանությունը (հաշվի առեք, որ պատասխանը հնարավոր չէ կրկնել):





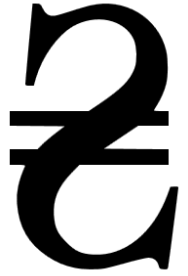

	Հանքային աղբյուր		Պատմաաշխարհագրական գավառ
Տ	Սաիրմե	1	Խնի
Ծ	Ավադհարա	2	Ռաճա
Ց	Ուջարմա	3	Խնսուրեթի
Ջ	Ուծերա	4	Գուրիա
Ե	Լեբարդե	5	Իմերեթի
Յ	Նաբեղլավի	6	Սամեգրելո
		7	Աբխազիա
		8	Թորի
		9	Կախեթի




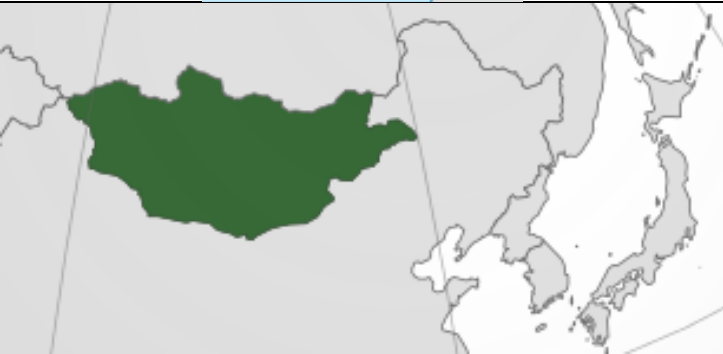



Տ	Ծ	Ց	Ջ	Ե	Յ

10. (8 մ.) Որոշեք համապատասխանությունը (հաշվի առեք, որ պատասխանը հնարավոր չէ կրկնել):

	Արժույթ		Պետություն (ուրվագիծ)
Տ	 <p>Շեկել</p>	1	
Ծ	 <p>Հարավկորեական վոն</p>	2	



8	 <p data-bbox="203 514 438 567">Ֆունտ ստերլինգ</p>	3	
6	 <p data-bbox="194 1039 446 1092">Թուրքական լիրա</p>	4	
9	 <p data-bbox="162 1501 479 1554">Ռկրաինական գրիվա</p>	5	

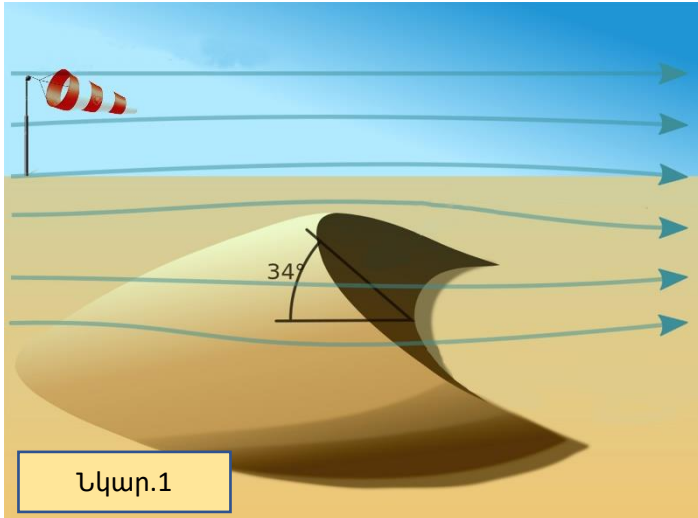
Յ	 Իեն	6	
Ծ	 Հնդկական ռուփի	7	
Ծ	 Տուրքիկ	8	
		9	

Վ	Շ	Ձ	Ք	Ս	Յ	Ծ	Ծ

**Հրահանգ**

Վերլուծեք առաջադրանքում տրված տեղեկատվությունը և պատասխանեք հարցերին: Պատասխանը գրեք պատասխանների թերթիկում հատկացված համապատասխան տեղում: Միավորների քանակը սահմանվում է ըստ կոնկրետ առաջադրանքի:

**11. (5 մ.) Վերլուծեք տրված նկարները և պատասխանեք հարցերին.**



Նկար.1



Նկար.2

11.1. (1 մ.) Ո՞ր լանդշաֆտն է պատկերված նկար 2-ում:

-----

11.2. (2 մ.) Նշեք երկու տերմին, որոնք համապատասխանում են նկարներում պատկերված ռելիեֆի ձևին: --

-----

11.3. (1 մ.) Ինչո՞վ է պայմանավորված նկարներում պատկերված ռելիեֆի ձևի տեղաշարժը:


-----

11.4. (1 մ.) Ի՞նչ կանխարգելիչ միջոցառում կարելի է ձեռնարկել բնակավայրի համար՝ նկարներում պատկերված աշխարհագրական օբյեկտից բխող վնասը կրճատելու նպատակով: -----

-----

**12. (8 մ.) Վերլուծեք տեղեկատվությունը և պատասխանեք հարցերին.**

Այս նավը ժամանակին համարվում էր աշխարհի ամենամեծ մարդատար շոգենավը: Այն շահագործման է հանձնվել 1912 թվականին: Խորտակվել է 1912 թվականի ապրիլի 15-ին: Այս նավի պատմությունը ամենահայտնի և լեգենդարներից մեկն է:



**1912 թվականի լուսանկար**



**Ժամանակակից լուսանկար**



**Երթուղու քարտեզ**

**12.1. (1 մ.)** Ինչպե՞ս էր կոչվում այս լեգենդար նավը:

**12.2. (1 մ.)** Նավը խորտակվել է Հյուսիսային Ատլանտիկայում: Տվյալ քարտեզի կիրառմամբ որոշեք խորտակման վայրի աշխարհագրական կոորդինատները:

**12.3. (1 մ.)** Ո՞ր պետությանն էր պատկանում այս նավը:

**12.4. (2 մ.)** Ո՞ր նավահանգիստների միջև էր իրականացնում իր առաջին նավարկությունն այս նավը:

**12.5. (1 մ.)** Նավարկությունն իրականացնելու ընթացքում ո՞ր պետության նավահանգստում կատարեց իր առաջին կանգառն այս նավը:

**12.6. (2 մ.)** Ի՞նչը դարձավ աղետի պատճառ և նշված աղետի վրա ինչո՞ւ գործեց ազդեցություն նավարկության իրականացումն ապրիլ ամսին: