

Milli Tədris Olimpiadası
Coğrafiya
II tur
2021-2022-ci illər

➤ **Seçimli cavabları olan sual – tapşırıq № 1-6**

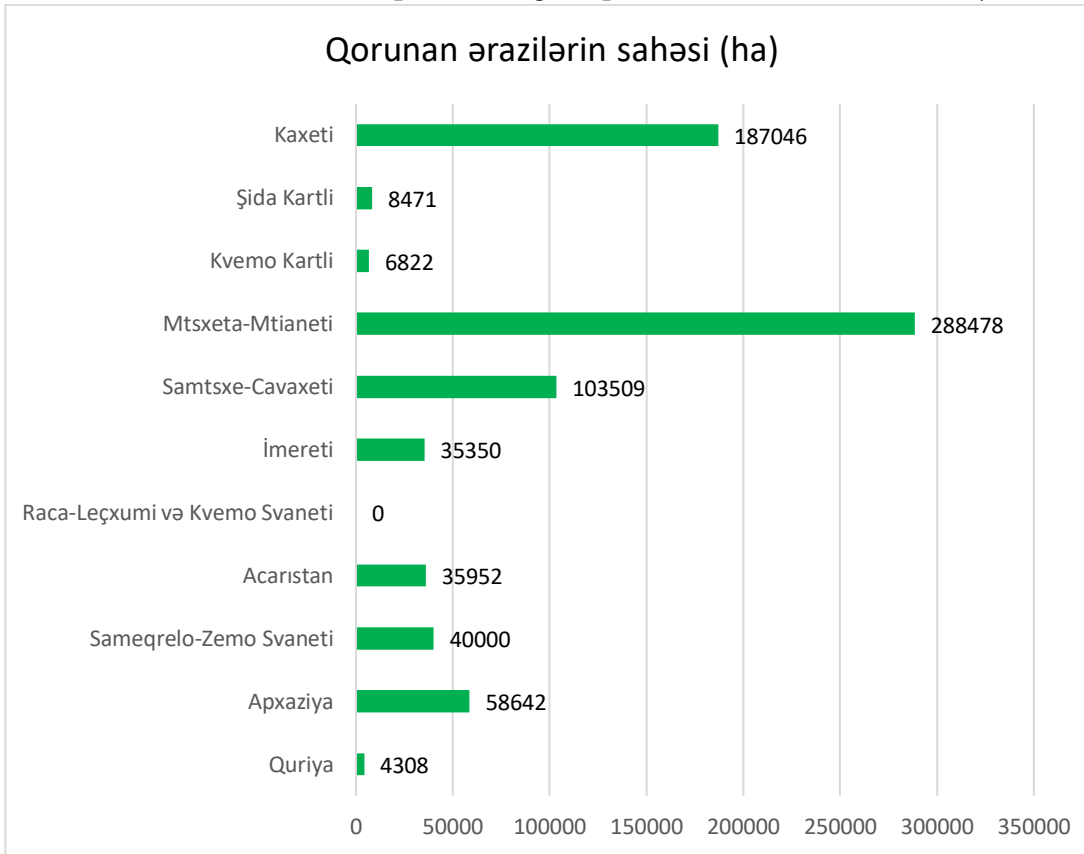
Təlimat

Hər suala ehtimal olunan dörd cavab verilir. Onlardan ancaq biri düzgündür. Seçilmiş cavabı cavablar vərəqinə bu qaydada keçirin: cavabların müvafiq hücrəsində X işarəsi qoyun. Başqa heç bir işarə qoymayın, üfqi yaxud şaquli xətlər, dairəyə almaq və s. elektron proqram tərəfindən qəbul olunmur. Əgər cavablar vərəqində göstərilmiş cavabı düzəltmək istəyirsinizsə, X işarəsi qoyduğunuz hücrəni bütünlüklə rəngləyin, və sonra cavabın yeni variantını işarə edin (yeni hücrədə X işarəsi qoyun). Düzəltdiyiniz cavabı təkrarən seçmək qeyri-mümkündür. Hər tapşırığa 1 xal verilir.

(1) 1. “Kovid-pandemiya” şəraitində iqtisadiyyatın ən çox hansı sahəsi zərər çəkdi?

- ə) Əczaçılıq;
- ə) Nəqliyyat;
- ğ) Rabitə vasitələri;
- ç) Qida sənayesi.

(1) 2. Bu məlumatlara əsaslanaraq , hansı bölgədə qorunan ərazilərin nisbəti daha yüksək olduğunu müəyyən edin.



- ə) Acarıstan;
- ə) Kaketi;
- ğ) Sameqrelo-Zemo Svaneti;
- ç) Samtsxe-Cavaxeti.

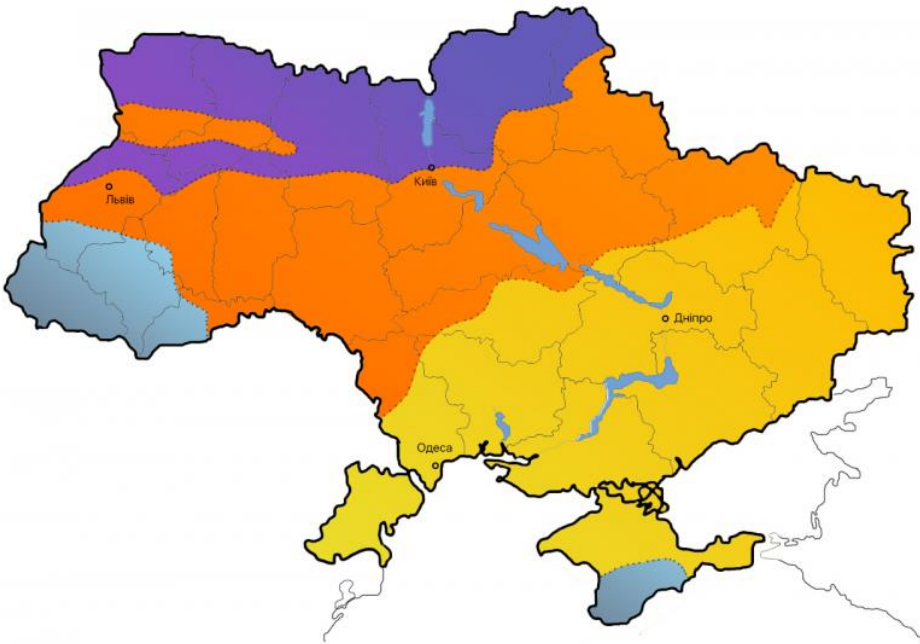
<i>Gürcüstanın regionları</i>	<i>Sahəsi (km²)</i>	<i>Gürcüstanın regionları</i>	<i>Sahəsi(km²)</i>
<i>Quriya</i>	2033	<i>Samtsxe-Cavaxeti</i>	6413
<i>Apxaziya</i>	4913	<i>Mtsxeta-Mtianeti</i>	5606
<i>Sameqrelo-Zemo Svaneti</i>	7468	<i>Kvemo Kartli</i>	6436
<i>Acaristan</i>	2919	<i>Şida Kartli</i>	3428
<i>Raca-Leçxumi və Kvemo Svaneti</i>	4600	<i>Kaketi</i>	11375
<i>İmereti</i>	6415		

(1) 3. İllustrasiyada göstərilən relyef forması nə mənşəlidir?



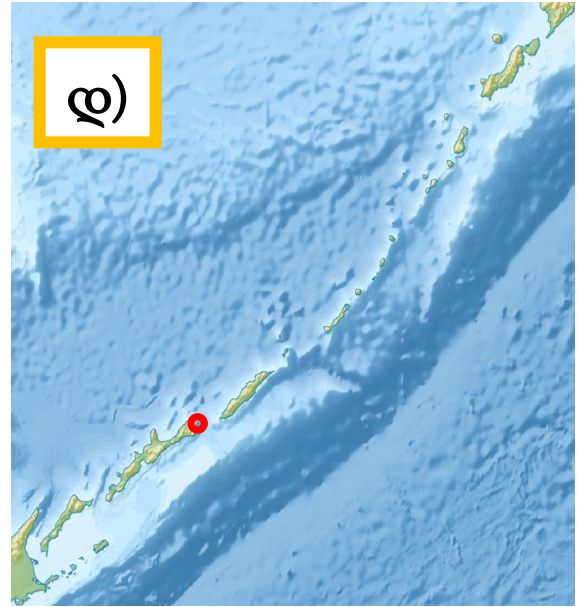
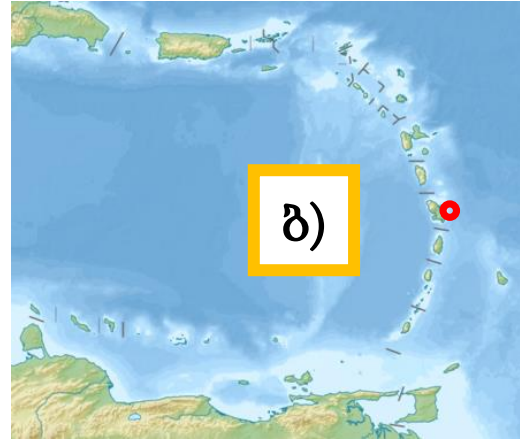
- а) Buzlaq;
- б) Karst;
- в) Aşınma;
- г) Eol.

(1) 4. Sadalanan başlıqlardan hansı illüstrasiyada göstərilən Ukraynanın tematik xəritəsinə uyğun gəlir?



- а) Atmosfer yağıntılarının paylanması;
- б) Əhali sıxlığı;
- в) İqtisadi regionlar;
- г) Təbii zonalar.

(1) 5. Fernando Magellan illüstrasiyada göstərilən hansı arxipelaqda vəfat etdi?



(1) 6. Qırmızı üzümlərdən hansı xəritədə göstərilən mikrozonada istehsal olunur?



- a) Saperavi və Kindzmarauli;
- b) Aleksandrouli və Mucuretuli;
- c) Aladasturi və Usaxeluri;
- d) Tavkvevi və İzabela.








➤ *Uyğunluğun müəyyən edilməsi – tapşırıq № 7-9*

Təlimat


Tapşırıqda verilmiş iki siyahı arasında uyğunluğu müəyyən edin. Cavabı cavablar vərəqində verilmiş cədvələ yazın. Hər hərfin altında müvafiq rəqəmi yazın. Xalların miqdarı konkret tapşırıq üzrə müəyyən edilir.

(6) 7. Uyğunluğu müəyyən edin (nəzərə alın ki, cavab təkrarlanmır)

	Fotoşəkil		Dövlət (bayraq) – Bu festivalın, tamaşanın yarandığı yer
s		1	
ð		2	
ð		3	

2		4	
3		5	
3		6	
		7	

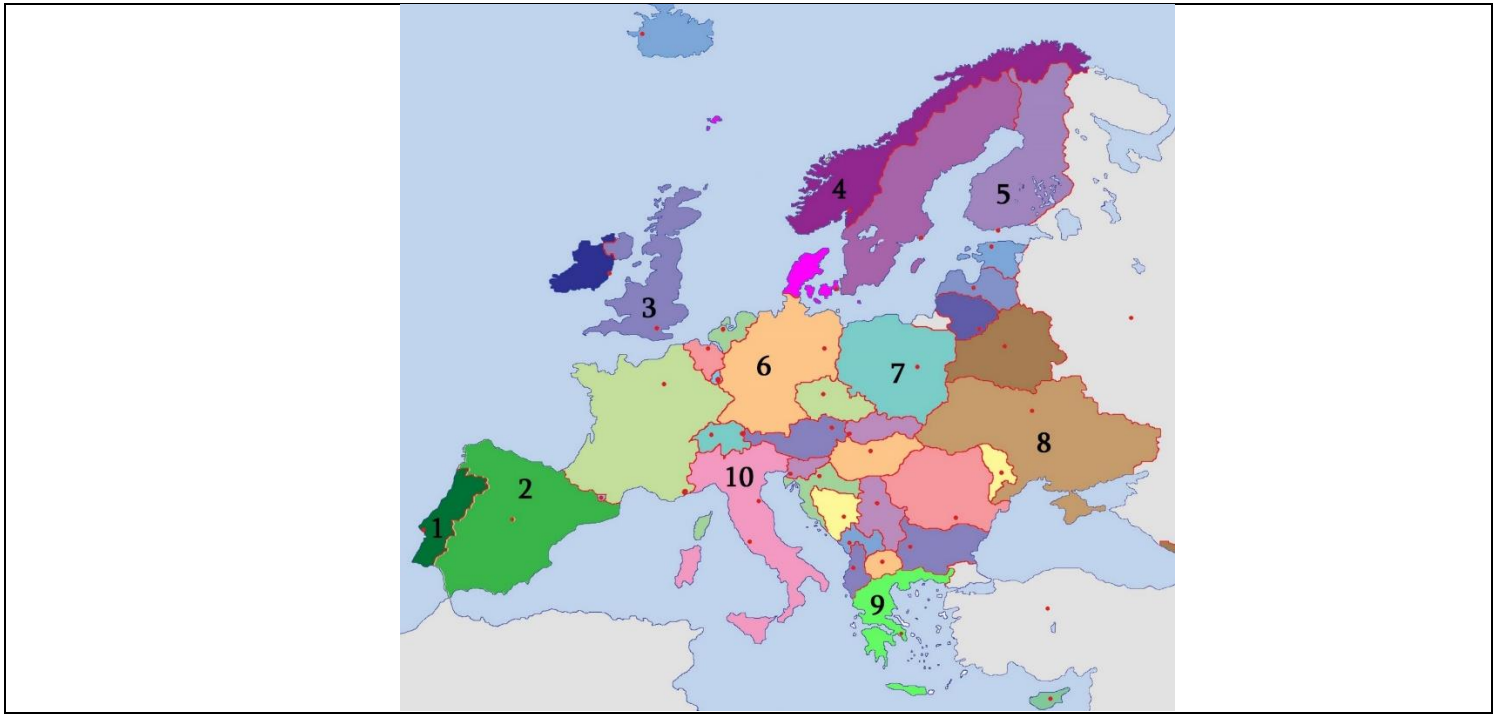
8



ა	ბ	გ	დ	ე	ვ



(6) 8. Fotosəkildə təsvir olunan görməli yerlərlə kontur xəritədə ədədlərlə qeyd olunan Avropa dövlətləri arasındakı uyğunluğu müəyyən edin (nəzərə alın ki, cavabın təkrarlanması mümkündür):





Görməli yerlərin fotosəkli		
<p>ა)</p>	<p>ბ)</p>	<p>გ)</p>
<p>დ)</p>	<p>ე)</p>	<p>ვ)</p>
Avropanın kontur xəritəsi		



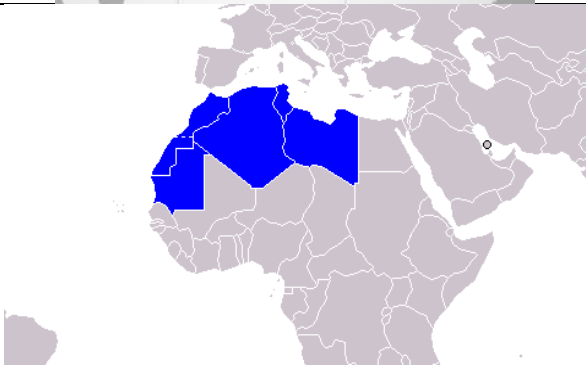
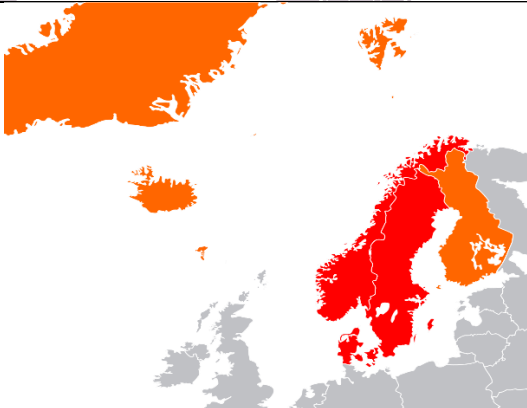


Տ	Ծ	Ց	Պ	Ս	Յ

(8) 9. Uyğunluđu müəyyən edin (nəzərə alın ki, cavab təkrarlanmır)

	Regionun adı		Regionun (konturu)
Տ	Benilüks	1	
Ծ	Skandinaviya	2	

8	Məğrib	3	
9	Cənubi Asiya	4	
0	Məşriq	5	
3	Karib Hövzəsi	6	

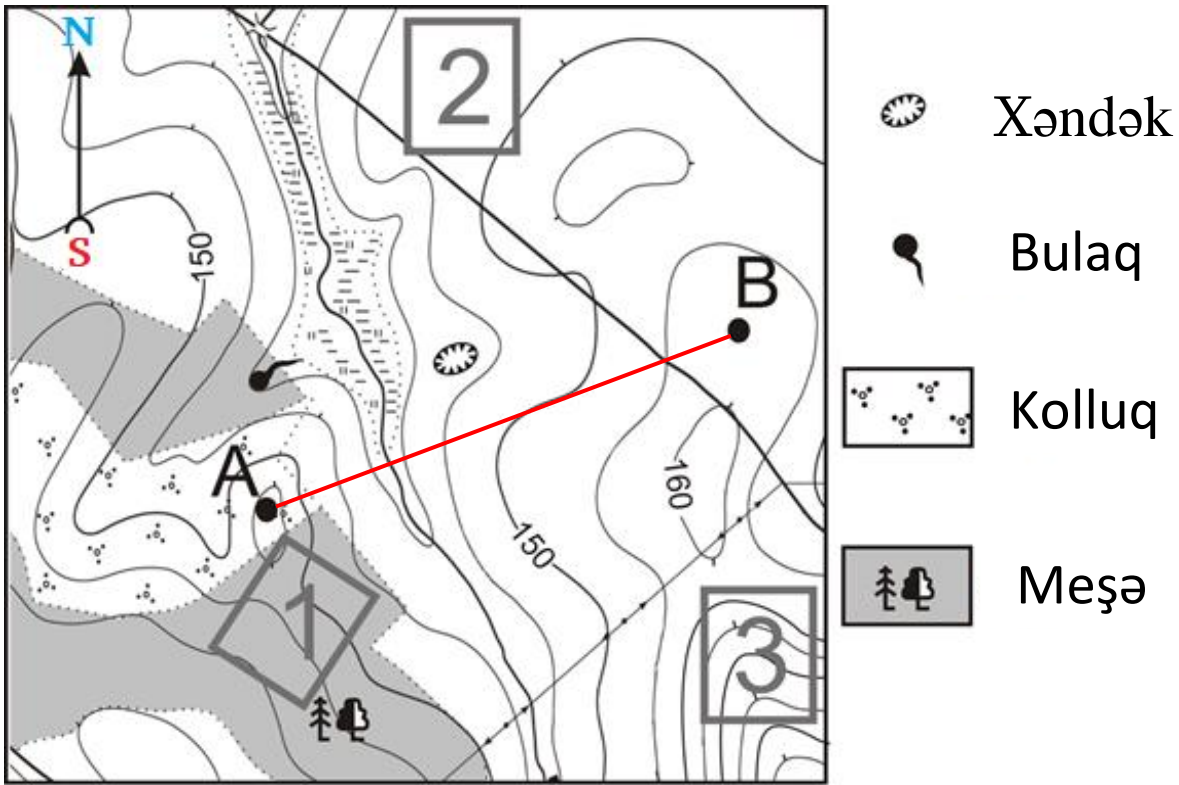
7	Cənub-Şərqi Asiya	
8	Subsaxara	
9		
10		

5	6	7	8	9	10	11	12

Təlimat

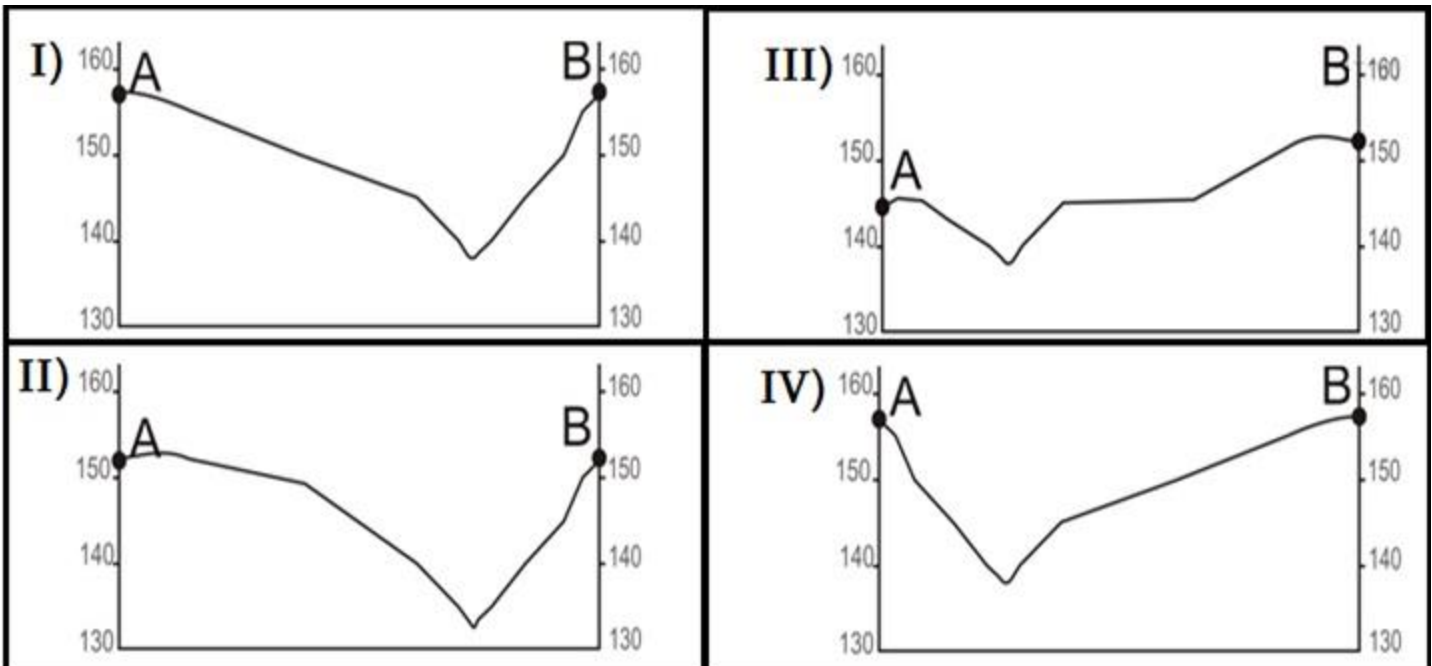
Tapşırıqda verilmiş informasiyanı təhlil edin və suallara cavab verin. Cavabı cavablar vərəqində ayrılmış müvafiq yerə yazın. Xalların miqdarı konkret tapşırıqə görə müəyyən edilir.

(4) 10. Xəritəni, relyef profilərini təhlil edin və suallara cavab verin:



Miqyas 1:10 000

Relyef profiləri



(1) 10.1. Tapşırıqda verilən xəritənin adına sadalananlardan hansı uyğun gəlir?

- ə) Fiziki-coğrafi;
- ə) Topoqrafik;
- ğ) Geoloji;
- q) Siyasi-inzibati.

(1) 10.2. Xəritəyə əsasən, təsvirlərdə göstərilən profillərdən hansının A və B nöqtələri arasında çəkilmiş parçaya uyğun olduğunu müəyyənə bilərsiniz.

(1) 10.3. Verilmiş xəritədə iki qonşu horizontal arasındakı hündürlük fərqi neçə metrə uyğun gəlir?

(1) 10.4. Əgər xəritədə müvafiq parçanın uzunluğu 2,5 sm-dirsə, bulaq və xəndək arasındakı məsafənin nəyə bərabər olduğunu hesablayın (hesablama prosesini mütləq göstərin).

(5) 11. İllustrasiyaları təhlil edin və suallara cavab verin:



Qeyzerin yaranma sxemi



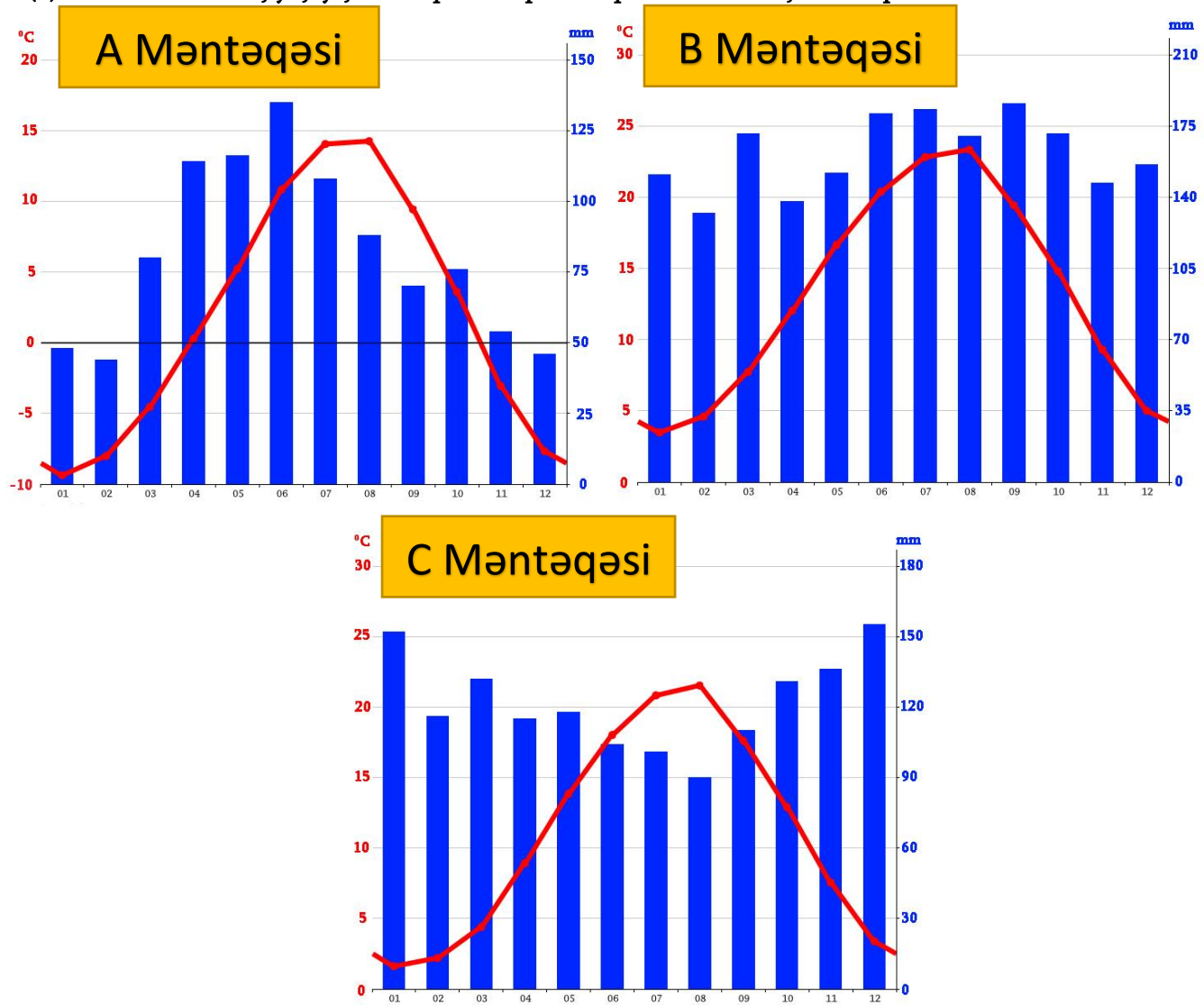
Qeyzer „Köhnə sadıq/Əməkdar“ (Old Faithful)

(2) 11.1. Yer kürəsində qeyzərlər hansı sahələrdə və nə üçün yaranır?

(1) 11.2. Qeyzər sularından hansı təsərrüfat məqsədləri üçün istifadə etmək olar?

(2) 11.3. Ən aktiv qeyzər hövzələrindən birinin yerləşdiyi və planetin qeyzərlərinin yarından çoxunun burada cəmləşdiyi dövlətin və milli parkın adını deyin.

(5) 12. Gürcüstanın üç yaşayış məntəqəsinin iqlim diaqramları verilmişdir. Diaqramları təhlil edin və suallara cavab verin.



(1) 12.1 Havanın orta temperaturunun illik amplitudası ən yüksək hansı yaşayış məntəqəsindədir?

(1) 12.2. Atmosfer yağıntılarının orta illik miqdarı ən yüksək hansı yaşayış məntəqəsindədir ?

(2) 12.3. Verilmiş yaşayış məntəqələrindən hansı dağ-xizək kurortudur? Cavabınızı əsaslandırın.

(1) 12.4. A, B və C məntəqələri üçün göstərilən iqlim diaqramları ilə sadalanan yaşayış məntəqələri arasındakı uyğunluğu müəyyən edin: Zuqdid, Pitsunda və Qudauri (cavabları cavablar vərəqindəki cədvələ yazın).

A məntəqəsi	
B məntəqəsi	
C məntəqəsi	