

**Национальная учебная олимпиада
по географии
II тур
2021-2022 гг**

➤ **Вопрос с выборочным ответом - задание № 1-6**

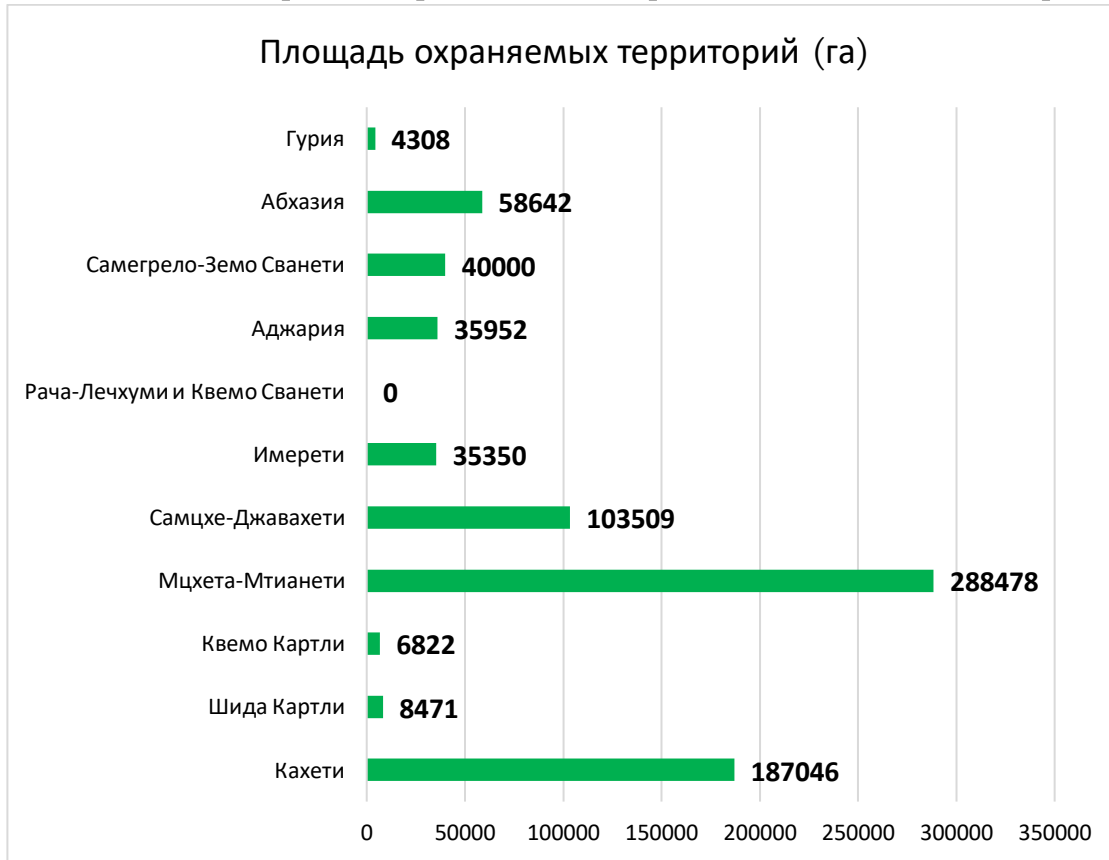
Инструкция

К каждому вопросу даны четыре ответа. Из них только один правильный. Выбранный ответ перенесите в лист ответов таким образом: в соответствующую клетку поставьте знак X. Ни одно другое обозначение - горизонтальные или вертикальные линии, обводка и т.п. электронной программой не идентифицируется. Если Вы желаете исправить помеченный ответ в листе ответов, целиком закрасьте клетку, в которую поставлен знак X, и после этого отметьте новый вариант ответа (поставьте знак X в новую клетку). Невозможно снова выбрать тот ответ, который Вы уже исправили. Каждое задание оценивается в 1 балл.

(1) 1. **Какая отрасль экономики понесла наибольшие убытки в условиях „ковид -пандемии“?**

- ა) Фармацевтика;
- ბ) транспорт;
- გ) средства связи;
- დ) пищевая промышленность.

(1) 2. **По данной информации определите, в каком регионе самая высокая доля охраняемых территорий?**



- ა) Аджария;
- ბ) Кахети;
- გ) Самегрело-Земо Сванети;
- დ) Самцхе-Джавахеги.

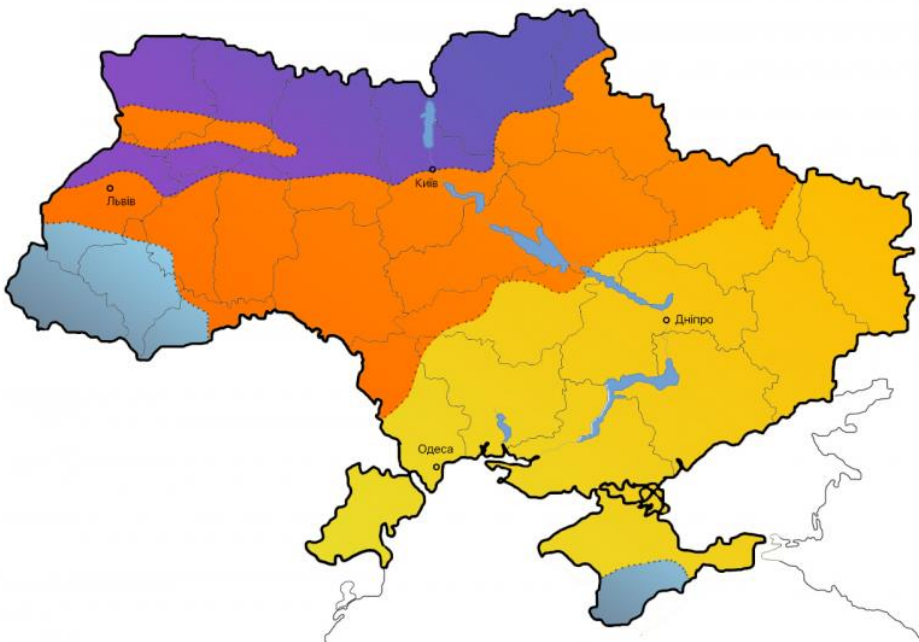
<i>Регионы Грузии</i>	Площадь (км ²)	<i>Регионы Грузии</i>	Площадь (км ²)
<i>Гурия</i>	2033	<i>Самцхе-Джавахеги</i>	6413
<i>Абхазия</i>	4913	<i>Мцхета-Мтианети</i>	5606
<i>Самегрело-Земо Сванети</i>	7468	<i>Квемо Картли</i>	6436
<i>Аджария</i>	2919	<i>Шида Картли</i>	3428
<i>Рача-Лечхуми и Квемо Сванети</i>	4600	<i>Кахети</i>	11375
<i>Имерети</i>	6415		

(1) 3. Какое происхождение имеет форма рельефа на представленной иллюстрации?



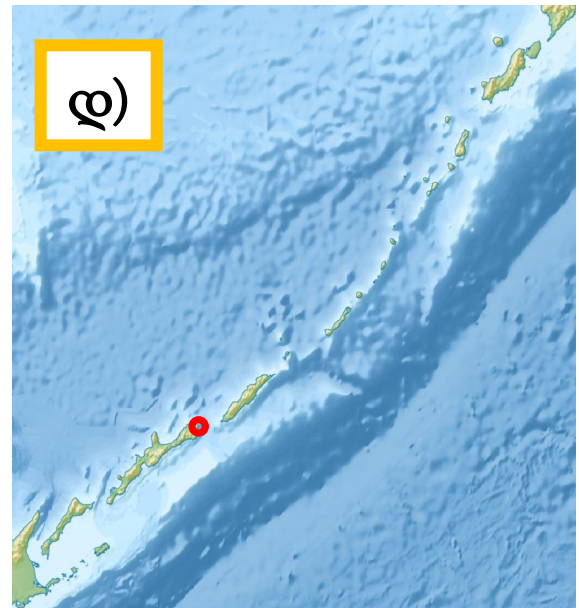
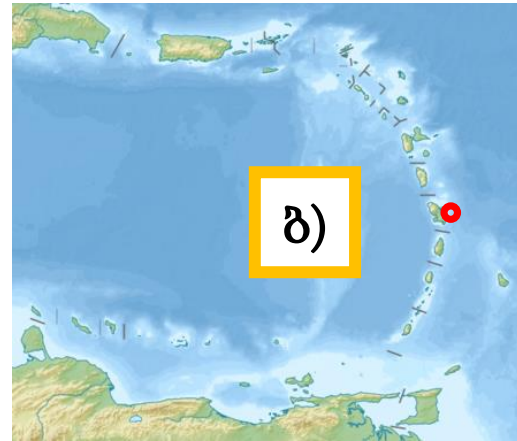
- а) Гляциального;
- б) карстового;
- в) абразионного;
- г) эолового.

(1) 4. Из перечисленных, какое название соответствует тематической карте Украины, представленной на иллюстрации?



- а) Распределение атмосферных осадков;
- б) плотность населения;
- в) экономические регионы;
- г) природные зоны.

(1) 5. На каком архипелаге погиб Фернан Магеллан?



(1) 6. Какой из красных сортов винограда производится в микроне, выделенной на карте?



- с) Саперави и Киндзмараули;
- д) Александроули и Муджуретули;
- е) Аладастури и Усахелаури;
- ж) Тавквери и Изабеллы.




➤ Установление соответствия - задание № 7-9

Инструкция


Установите соответствие между двумя перечнями, которые даны в задании. Ответы перенесите в таблицу, данную на листе ответов. Под каждой буквой запишите соответствующую цифру. Количество баллов определяется по каждому конкретному заданию.

(6) 7. Определите соответствие (учтите, что повтор ответа невозможен)

	фото		Государство (флаг) – родина этого фестиваля/этого зрелища
з		1	
в		2	
8		3	

<p>2</p>		<p>4</p>	
<p>3</p>		<p>5</p>	
<p>3</p>		<p>6</p>	
		<p>7</p>	

8



а	б	в	г	д	з

(6) 8. Определите соответствие: к какому государству, относятся достопримечательности на представленных фотографиях. Государства на карте обозначены числами. (Учтите, что ответы могут повторяться):

Фото достопримечательностей

а)



б)



в)



г)



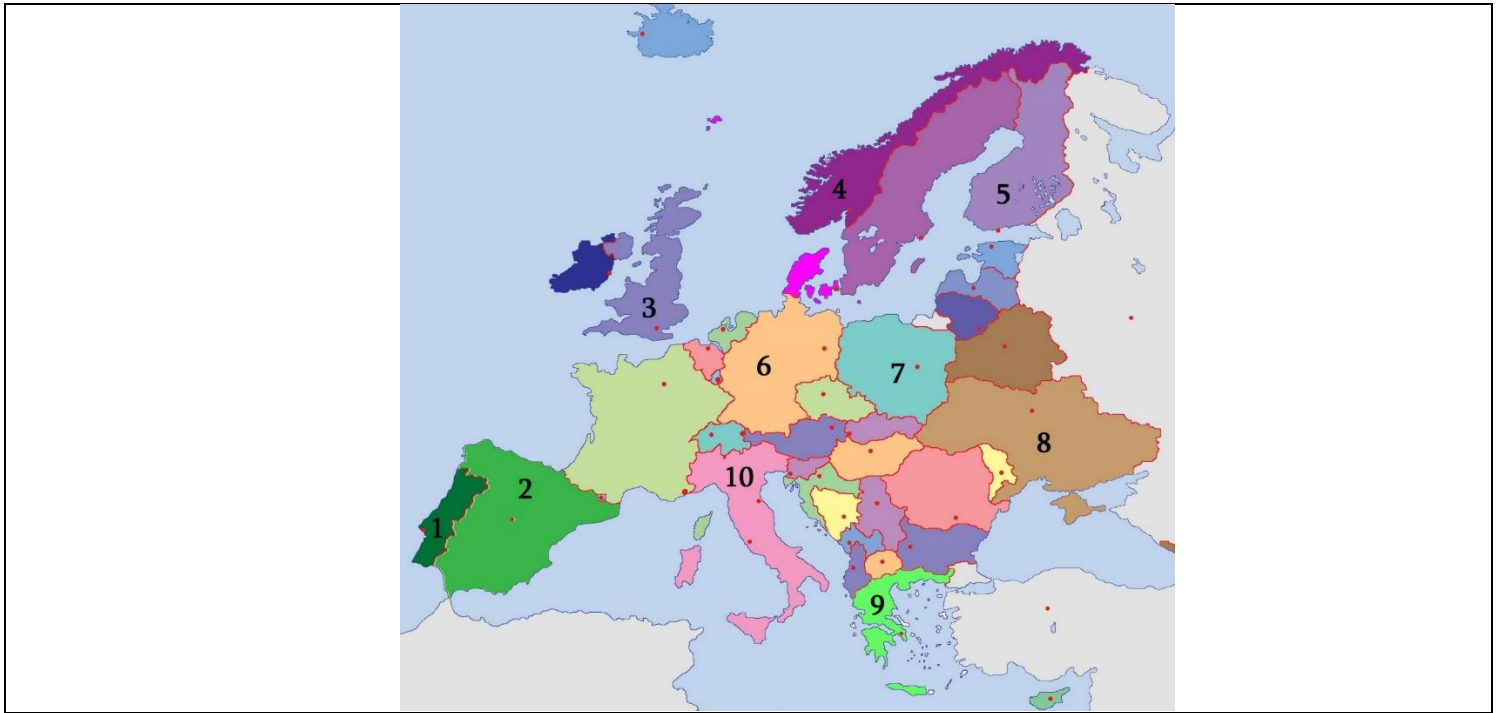
д)



з)






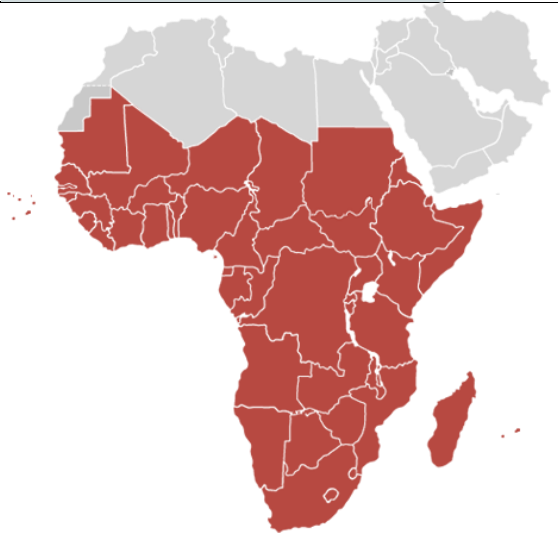


Контурная карта Европы




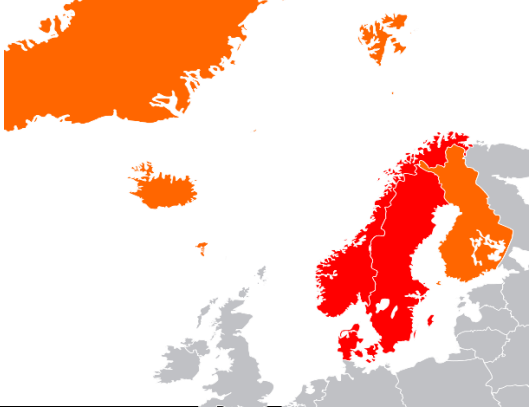


а	б	в	г	д	е

(8) 9. Определите соответствие (учтите, что повтор ответа невозможен):

	Название региона		Регион (контуры)
а	Бенилюкс	1	
б	Скандинавия	2	

8	Магриб	3	
9	Южная Азия	4	
10	Машрик	5	
3	Карибский бассейн	6	

7	Юго-Восточная Азия	
8	Субсахара	
9		
10		

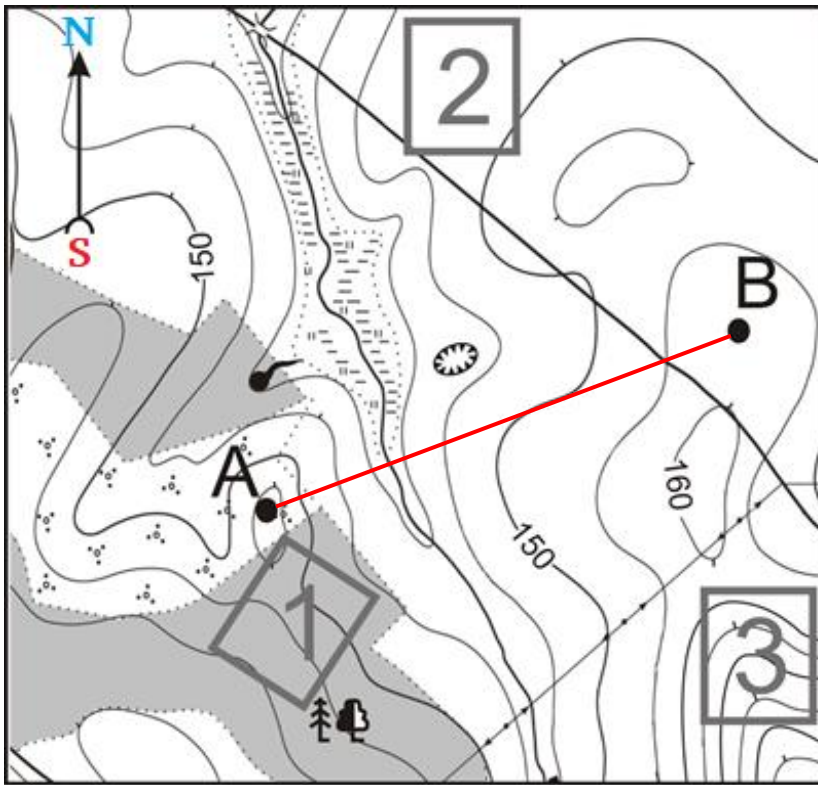
а	б	в	г	д	е	ж	з	и	к

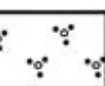
➤ Анализ информации - задание № 10-12

Инструкция

Проанализируйте данную в задании информацию и ответьте на вопросы. Ответы запишите в специально отведенном для этого месте на листе ответов. Количество баллов определяется по каждому конкретному заданию.

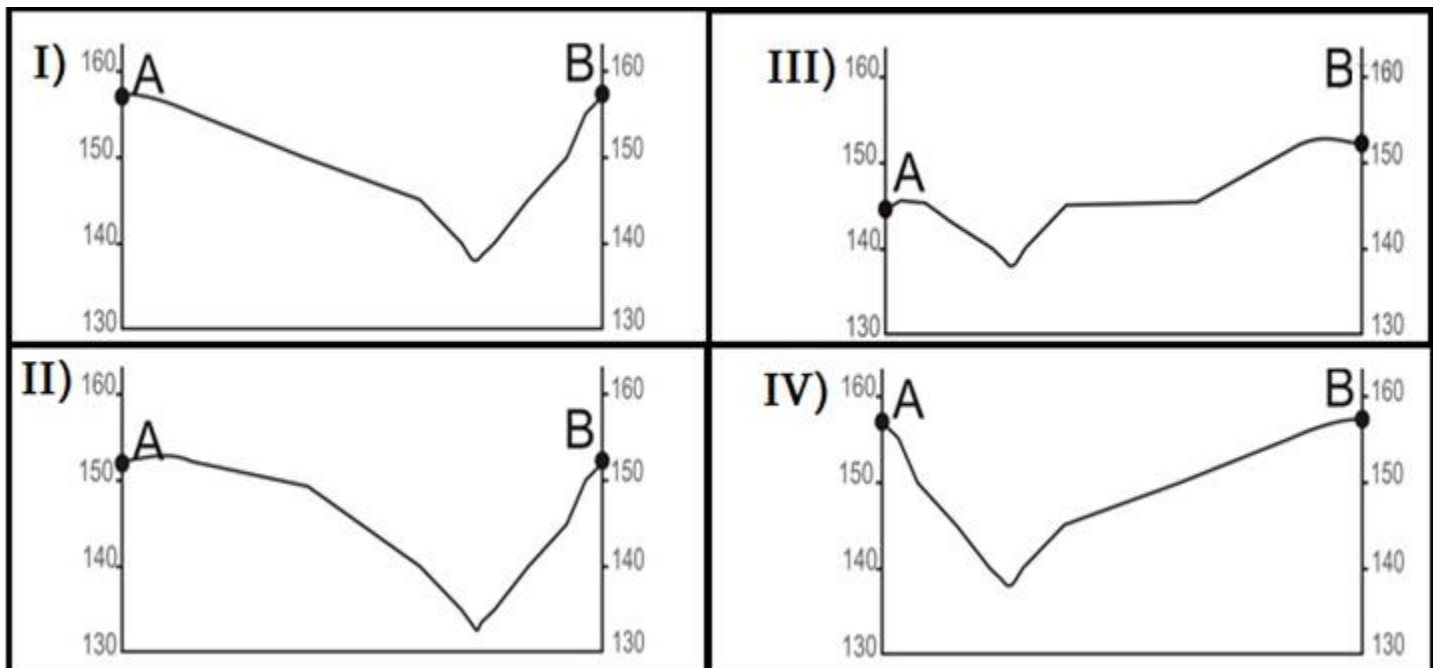
(4) 10. Проанализируйте карту, профили рельефа и ответьте на вопросы:



-  Яма
-  Родник
-  Кустарник
-  Лес

Масштаб 1:10 000

Профили рельефа



(1) 10.1. Какое из перечисленных названий соответствует карте, данной в задании.

- а) Физико-географическая;
- б) топографическая;
- в) геологическая;
- г) политико-административная.

(1) 10.2. С опорой на карту установите, какой из показанных на иллюстрациях профилей соответствует отрезку, проведённому между точками А и В?

(1) 10.3. Скольким метрам соответствует на карте разница высот между двумя соседними горизонталями?

(1) 10.4. Вычислите, чему равно расстояние между родником и ямой, если расстояние между ними на карте равняется 2.5 сантиметрам (обязательно покажите процесс вычисления).

(5) 11. Проанализируйте иллюстрации и ответьте на вопросы:

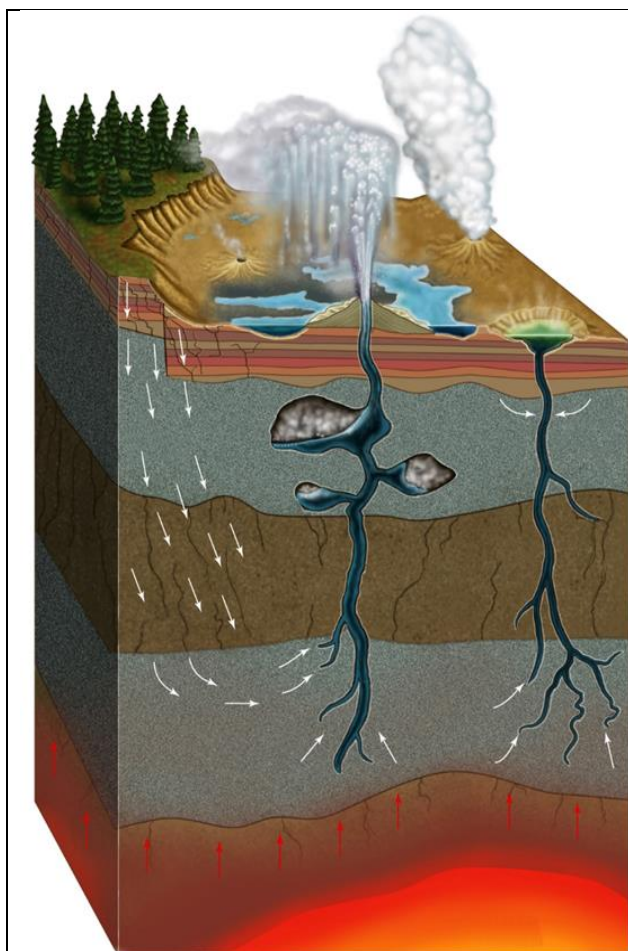


Схема образования гейзера



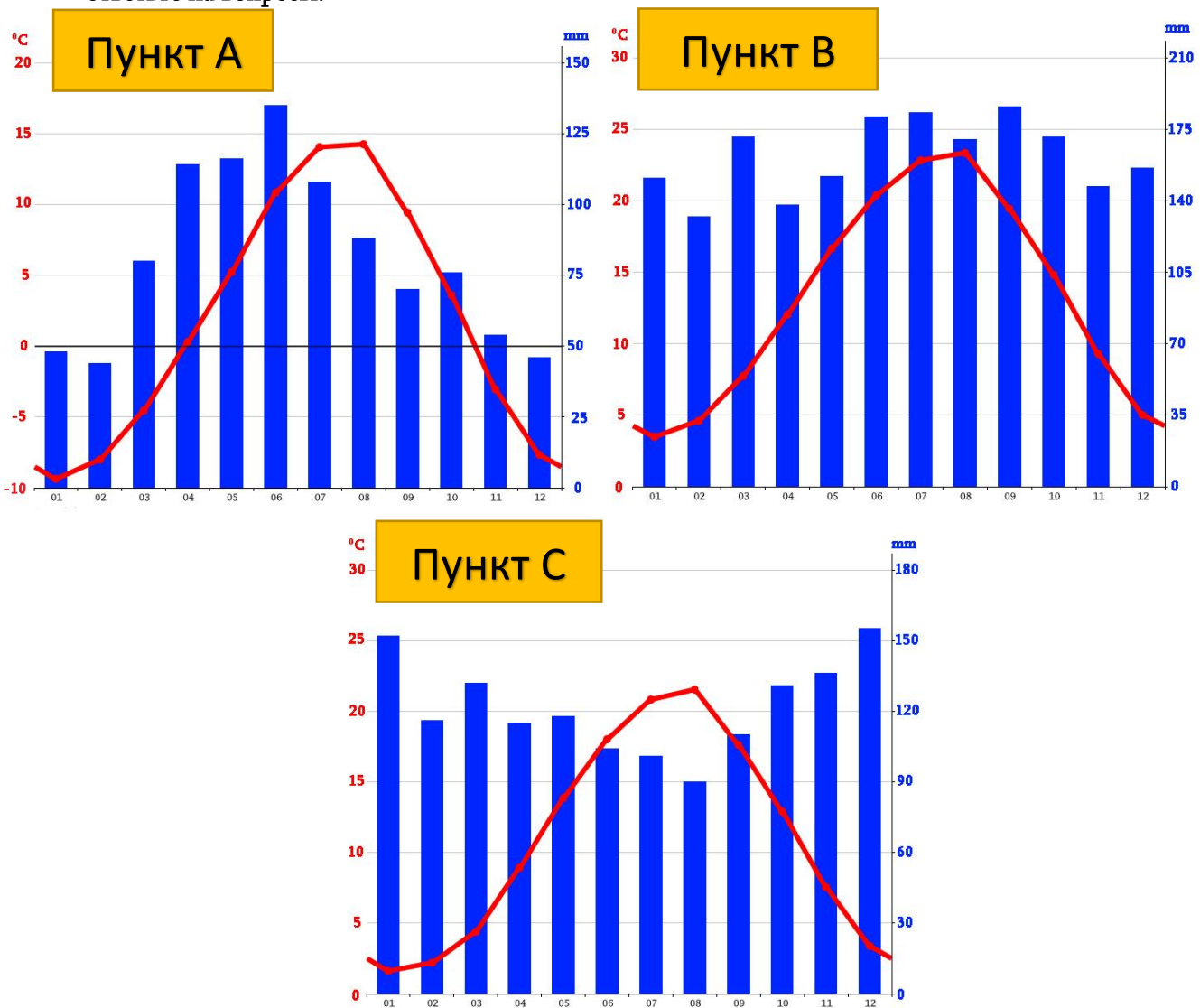
Гейзер „Старый служака“ (Old Faithful)

(2) 11.1. В каких ареалах и почему образуются гейзеры на Земле?

(1) 11.2. Какое хозяйственное применение могут иметь гейзеры?

(2) 11.3. Назовите государство и национальный парк, в котором находится один из самых активных гейзеровых бассейнов и в нём сосредоточено больше половины гейзеров Планеты.

(5) 12. Приведены климатические диаграммы трёх населённых пунктов Грузии. Проанализируйте диаграммы и ответьте на вопросы.



(1) 12.1 В каком населённом пункте наблюдается самая большая амплитуда средней годовой температуры воздуха?

(1) 12.2. В каком населённом пункте наблюдается самое большое количество среднегодовых атмосферных осадков?

(2) 12.3. Какой из перечисленных населённых пунктов, является горнолыжным курортом? Ответ обоснуйте.

(1) 12.4. Установите соответствие между климатическими диаграммами, показанными для пунктов А, В и С и перечисленными городами: Зугдиди, Пицунда и Гудаури (ответы запишите в таблицу, которая приведена на листе ответов).

А пункт	
В пункт	
С пункт	