

Ազգային ուսումնական օլիմպիադա
աշխարհագրությունից
II փուլ
2021-2022 թթ.

• **Հարց ընտրովի պատասխաններով - առաջադրանք № 1-6**

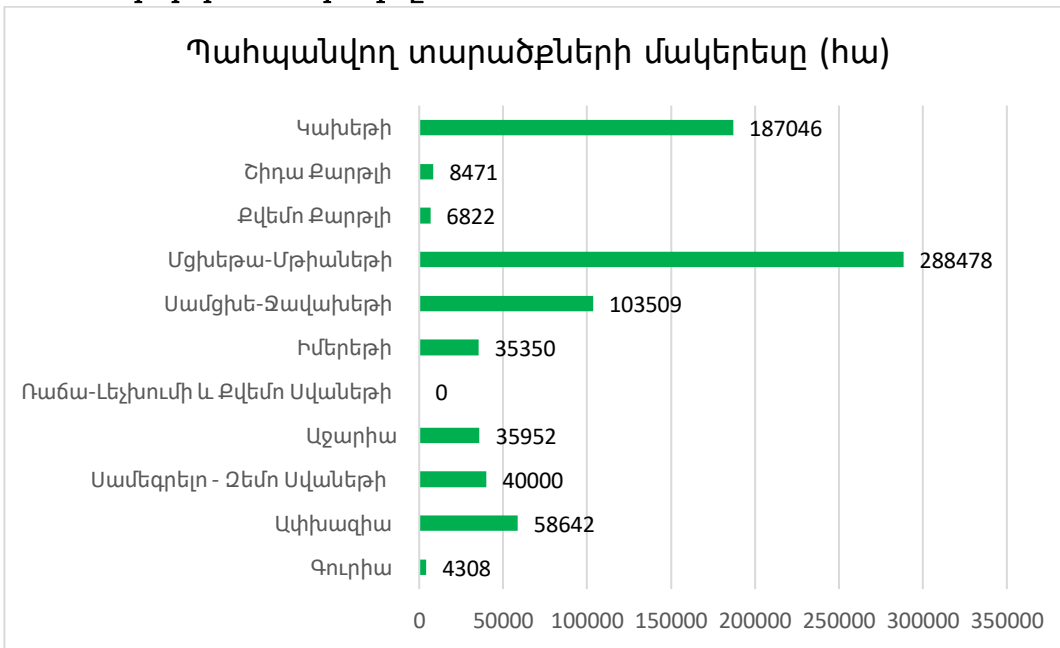
Հրահանգ

Յուրաքանչյուր հարցին տրված է չորս ենթադրական պատասխան: Դրանցից միայն մեկն է ճիշտ: Ընտրած պատասխանը տեղափոխեք պատասխանների թերթիկի վրա, հետևյալ կերպ՝ պատասխանի համապատասխան վանդակում դրեք X նշանը: Ոչ մի այլ նշում, հորիզոնական կամ ուղղահայաց գծեր, շրջագծումներ և այլն, չի ընկալվի էլեկտրոնային ծրագրի կողմից: Եթե ցանկանում եք ուղղել պատասխանների թերթիկում նշած պատասխանը, ամբողջությամբ ներկեք վանդակը, որտեղ դրել եք X նշանը, որից հետո նշեք պատասխանի նոր տարբերակը (դրեք X նշանը նոր վանդակում): Կրկին անգամ ընտրել այն պատասխանը, որն արդեն ուղղել եք, հնարավոր չէ: Յուրաքանչյուր առաջադրանք գնահատվում է 1 միավոր:

(1) **1. Տնտեսության ո՞ր ոլորտն է տուժել բոլորից շատ «քովիդ համաճարակի» պայմաններում:**

- ա) Դեղագործությունը,
- ծ) տրանսպորտը,
- զ) կապի միջոցները,
- զ) սննդի արդյունաբերությունը:

(1) **2. Տրված տեղեկությունների հիման վրա որոշեք, թե ո՞ր տարածաշրջանն ունի պահպանվող տարածքների ամենաբարձր մասնաբաժինը:**



- ա) Աջարիան,
- ծ) Կախերթին,
- զ) Սամեգրելո-Չեմո Սվաներթին,
- զ) Սամցխե-Ջավախերթին:

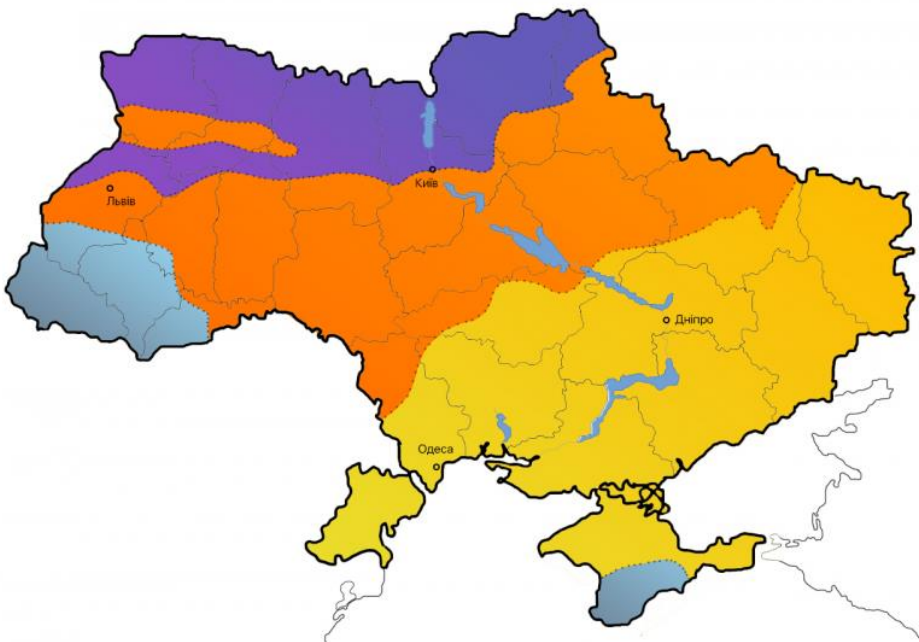
Վրաստանի տարածաշրջաններ	Մակերեսը (կմ ²)	Վրաստանի տարածաշրջաններ	Մակերեսը (կմ ²)
Գուրիա	2033	Սամցխե-Ջավախերթի	6413
Ափխազիա	4913	Մցխեթա-Մթիաներթի	5606
Սամեգրելո-Չեմո Սվաներթի	7468	Քվեմո քարթլի	6436
Աջարիա	2919	Շիրաք քարթլի	3428
Ռաճա-Լեչխումի և Քվեմո Սվաներթի	4600	Կախերթի	11375
Իմերեթի	6415		

(1) 3. Ի՞նչ ծագում ունի նկարում պատկերված ռելիեֆի ձևը:



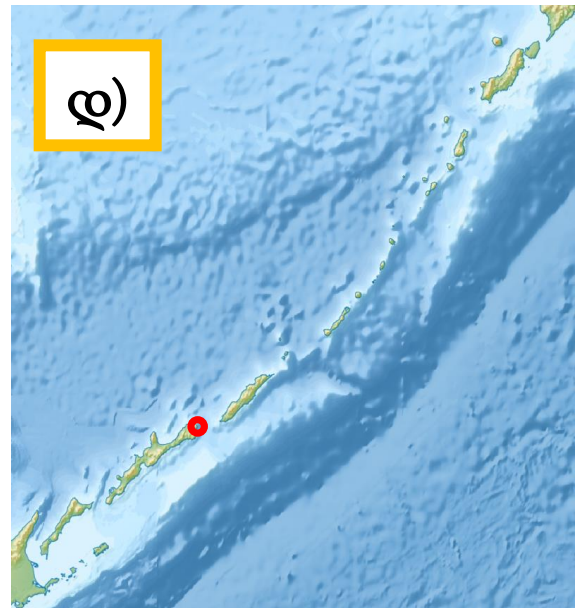
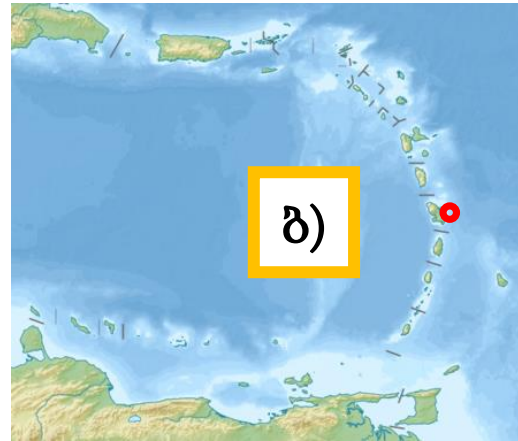
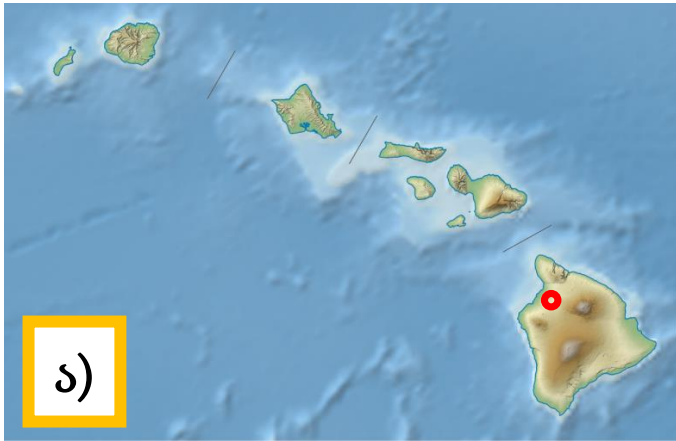
- ա) Գլացիալ,
- ծ) կարստային,
- ց) աբրազիական,
- զ) էոլային:

(1) 4. Թվարկածներից, ո՞րն է համապատասխանում նկարում պատկերված Ուկրաինայի թեմատիկ քարտեզի անվանմանը:



- ա) Մթնոլորտային տեղումների բաշխում,
- ծ) բնակչության խտություն,
- ց) տնտեսական տարածաշրջաններ,
- զ) բնական զոնաներ:

(1) 5. Նկարում պատկերված ո՞ր արշիպելագոմ է մահացել Ֆեռնան Մագելանը:



(1) 6. Կարմիր խաղողի ո՞ր տեսակն է տարածված քարտեզի վրա պատկերված միկրոգոտում:



- ա) Սափերավի և Քինձմարաուլի,
- ծ) Ալեքսանդրոուլի և Մուջուրեթուլի,
- ձ) Ալադաստուրի և Ուսախելուրի,
- Ջ) Թավկվերի և Իգաբելա:








➤ Համապատասխանության որոշում - առաջադրանք № 7-9

Հրահանգ


Որոշեք համապատասխանությունն առաջադրանքում տրված երկու թվարկացանկի միջև: Պատասխանը գրեք պատասխանների թերթիկում տրված աղյուսակում, յուրաքանչյուր տառի տակ գրելով համապատասխան թվանշանը: Միավորների քանակը սահմանվում է ըստ կոնկրետ առաջադրանքի:

(6) 7. Որոշեք համապատասխանությունը (հաշվի առեք, որ պատասխանը հնարավոր չէ կրկնել):

	Լուսանկար		Պետություն (դրոշ) այդ փառատոնի/ներկայացման հայրենիքը
Տ		1	
Ց		2	
Ց		3	

2		4	
3		5	
3		6	
	7		



8



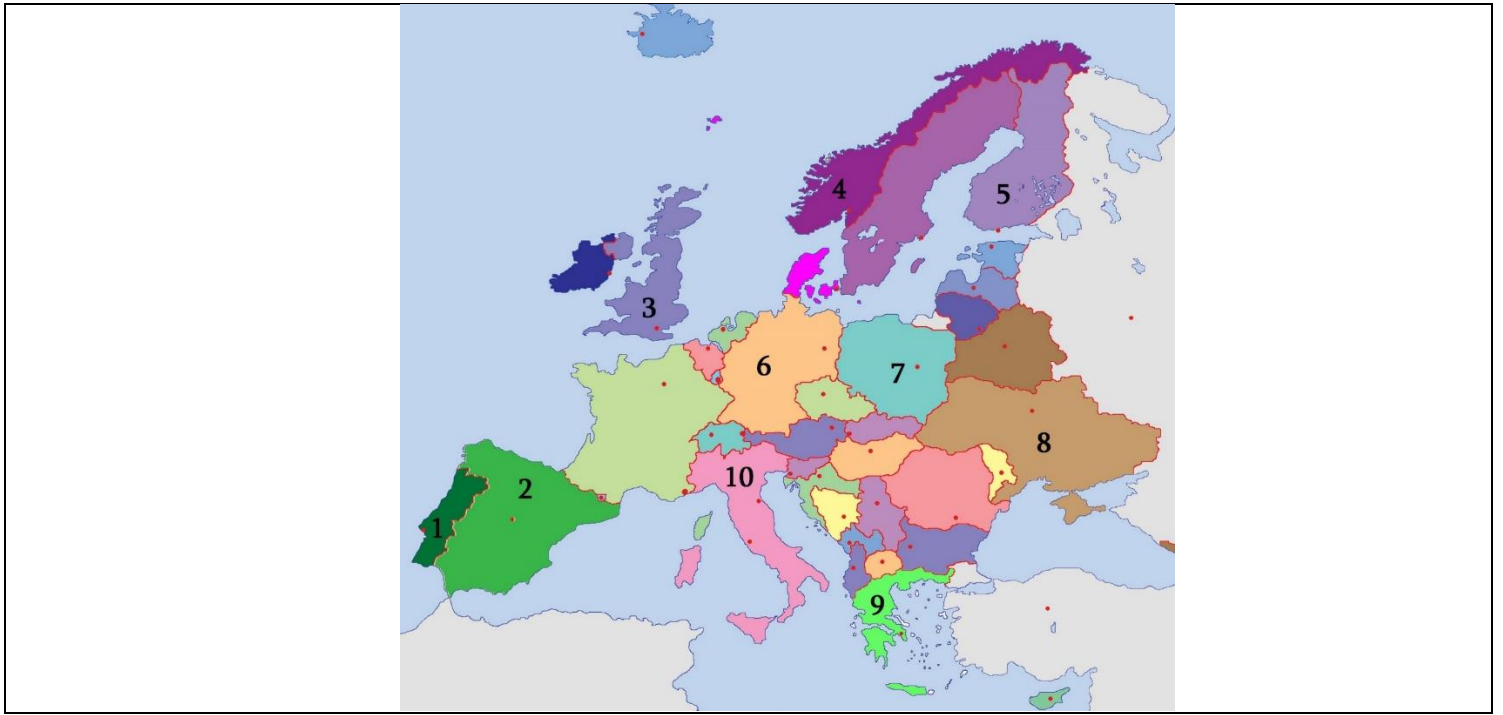
Տ	Ծ	Ց	Պ	Յ	Յ

(6) 8. Որոշեք համապատասխանությունը լուսանկարում պատկերված տեսարժան վայրերի և Եվրոպական պետությունների միջև, որոնք ուրվագծային քարտեզի վրա նշված են թվանշաններով (հաշվի առեք, որ պատասխանը հնարավոր է կրկնել).

Տեսարժան վայրերի լուսանկար




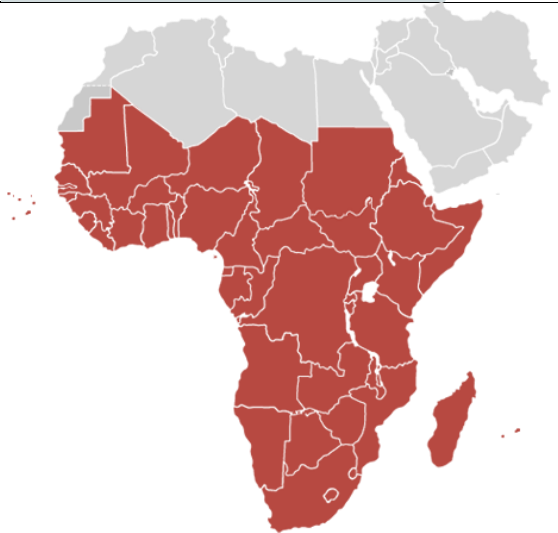


Եվրոպայի ուրվագծային քարտեզ



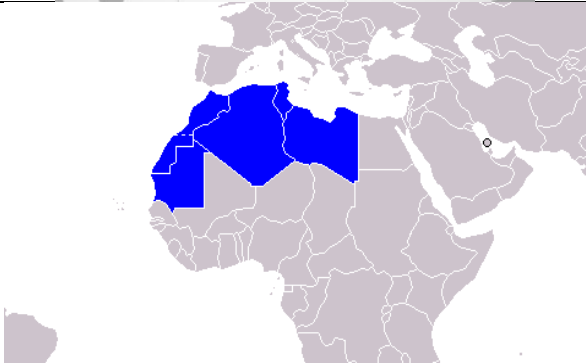
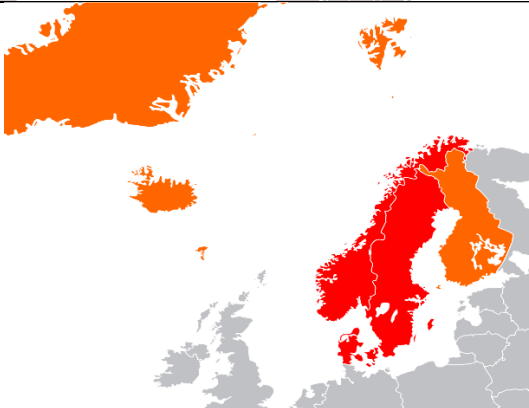


Տ	Ծ	Ց	Պ	Ս	Յ

(8) 9. Որոշեք համապատասխանությունը (հաշվի առեք, որ պատասխանը հնարավոր չէ կրկնել).

	Տարածաշրջանի անվանումը		Տարածաշրջանի (ուրվագիծ)
Տ	Բենիլյուքս	1	
Ծ	Սկանդինավիա	2	

Ճ	Մադրիբ	3	
Ը	Հարավային Ասիա	4	
Յ	Մաշրիկ	5	
Յ	Կարիբյան ավազան	6	

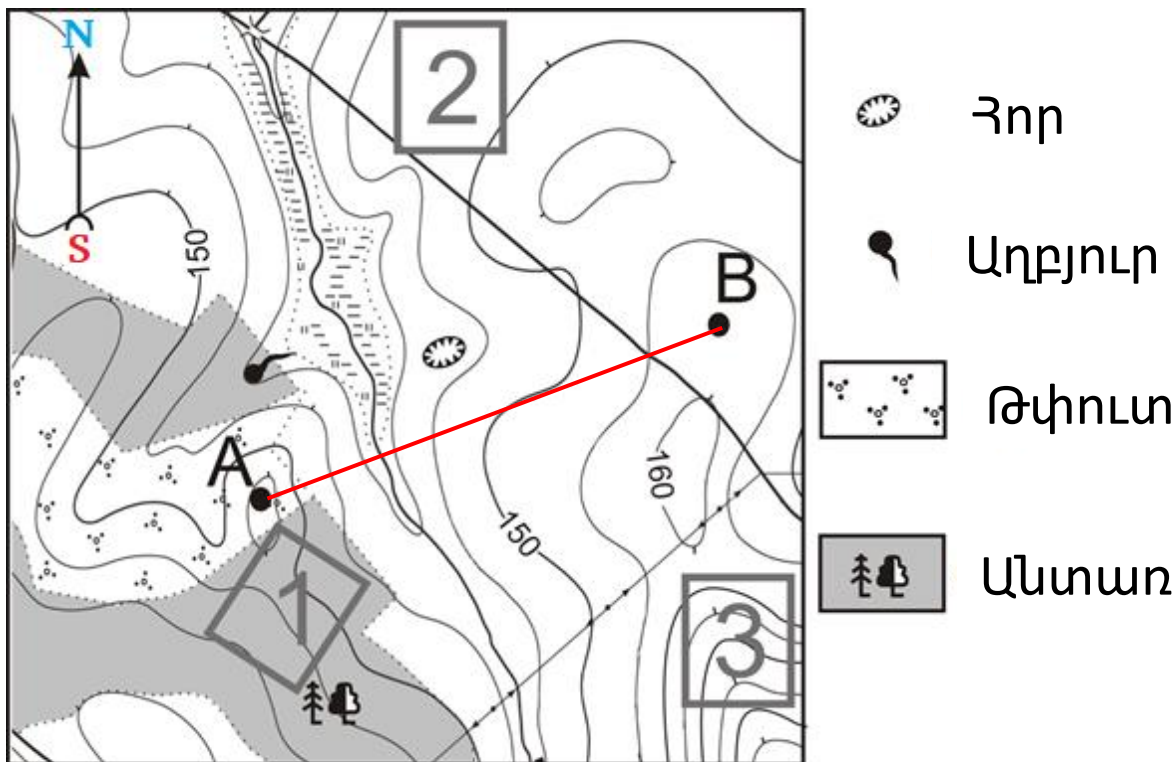
Ֆ	Հարավարևելյան Ասիա	7	
տ	Ենթասահարա	8	
	9		
	10		

Վ	Ծ	Ճ	Թ	Յ	Յ	Ֆ	տ

Հրահանգ

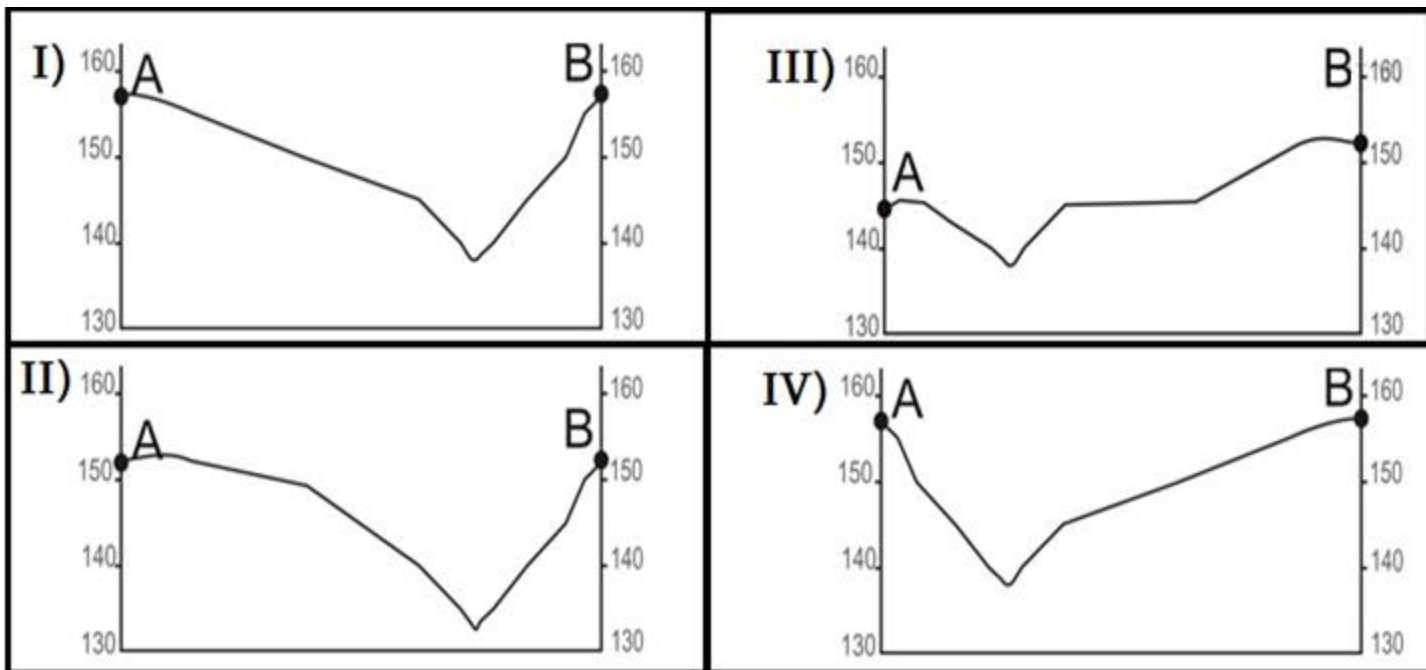
Վերլուծեք առաջադրանքում տրված տեղեկությունը և պատասխանեք հարցերին: Պատասխանը գրեք պատասխանների թերթիկում հատկացված համապատասխան տեղում: Միավորների քանակը սահմանվում է ըստ կոնկրետ առաջադրանքի:

(4) 10. Վերլուծեք քարտեզը, ռելիեֆի կտրվածքները (պրոֆիլներ) և պատասխանեք հարցերին.



Մասշտաբ 1:10 000

Ռելիեֆի կտրվածքներ (պրոֆիլներ)



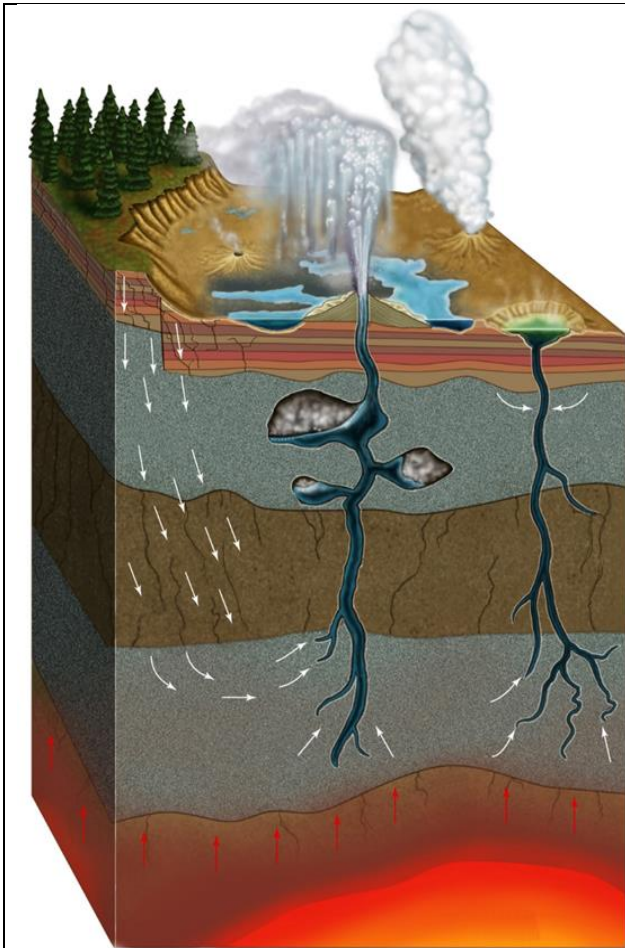
- (1) 10.1. Թվարկածներից, ո՞րն է համապատասխանում առաջադրանքում տրված քարտեզի անվանմանը:
- ա) Տիզիկաաշխարհագրական,
 - ծ) տեղագրական,
 - ց) երկրաբանական,
 - զ) վարչաքաղաքական:

- (1) 10.2. Քարտեզի հիման վրա որոշեք, թե նկարում պատկերված ռելիեֆի կտրվածքներից (պրոֆիլներից) ո՞րն է համապատասխանում A և B կետերի միջև առկա հատվածին:
-

- (1) 10.3. Քանի՞ մետրի է համապատասխանում տրված քարտեզի վրա երկու հարևան հորիզոնականների միջև բարձրությունների տարբերությունը: -----
-

- (1) 10.4. Հաշվեք, թե որքան է աղբյուրի և հորի միջև հեռավորությունը, եթե քարտեզի վրա դրանց միջև հեռավորությունը կազմում է 2,5 սանտիմետր (անպայման ներկայացրեք հաշվարկի գործընթացը): ----
-
-

(5) 11. Վերլուծեք նկարները և պատասխանեք հարցերին.



Գեյզերի առաջացման սխեմա



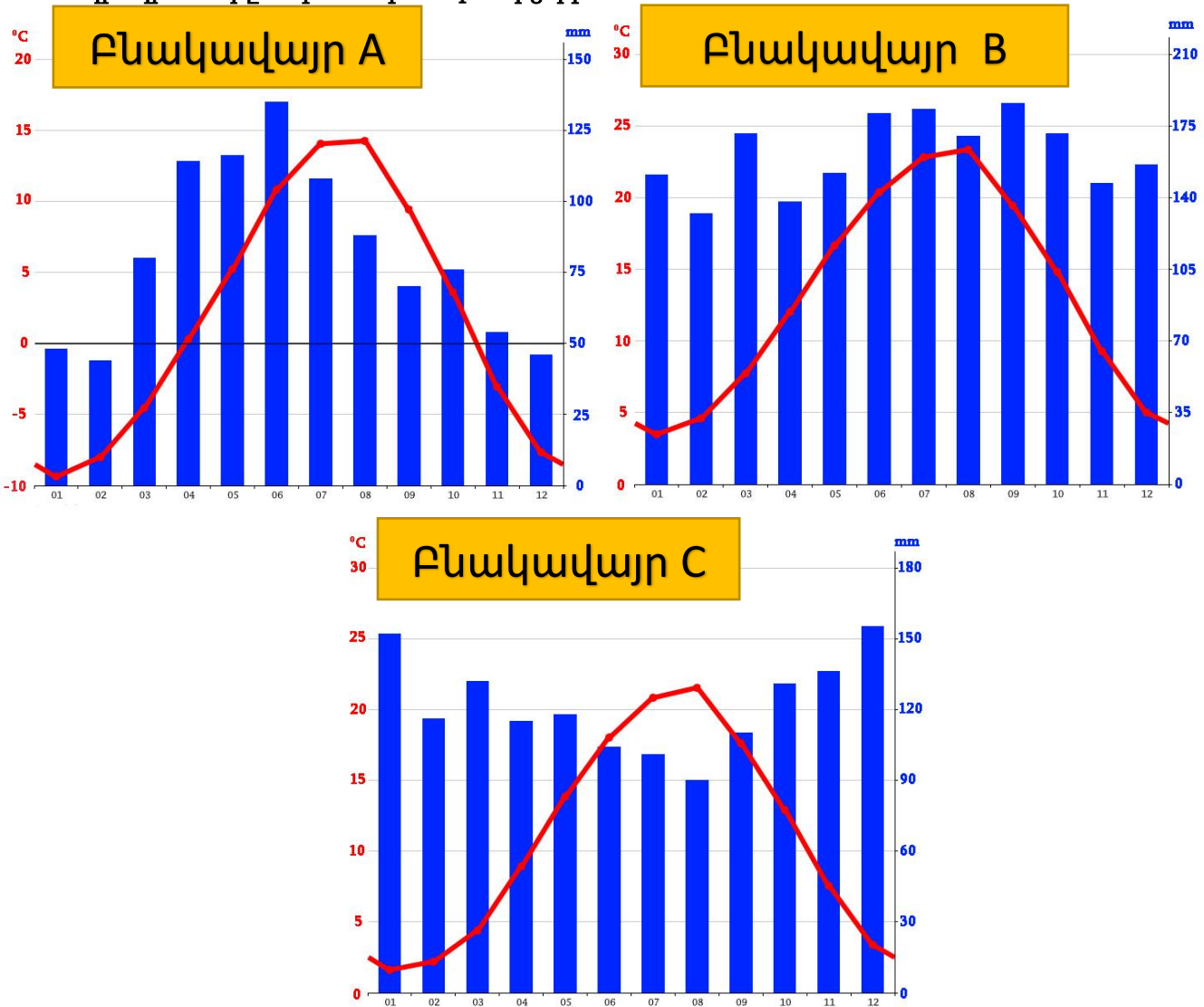
«Հին հավատարիմ գեյզեր/հին պաշտոնյա» (Old Faithful)

(2) 11.1. Ո՞ր տարածքներում և ինչո՞ւ են Երկրի վրա գոյանում գեյզերներ:

(1) 11.2. Ի՞նչ տնտեսական կիրառում կարող են ունենալ գեյզերային ջրերը:

(2) 11.3. Նշեք այն պետությունը և ազգային պարկը, որտեղ գտնվում է ամենաակտիվ գեյզերային ավազաններից մեկը և դրանում է կենտրոնացված մոլորակի գեյզերների կեսից ավելին:

(5) 12. Ներկայացված են Վրաստանի երեք բնակավայրերի կլիմայական դիագրամները: Վերլուծեք դիագրամները և պատասխանեք հարցերին:



(1) 12.1 Ո՞ր բնակավայրում է օդի միջին տարեկան ջերմաստիճանի ամենամեծ ամպլիտուդը:

(1) 12.2. Ո՞ր բնակավայրում է մթնոլորտային տեղումների տարեկան միջին քանակը բոլորից բարձր:

(2) 12.3. Ներկայացված բնակավայրերից ո՞րն է համարվում լեռնադահուկային հանգստավայր: Պատասխանը հիմնավորե՛ք.

(1) 12.4. Որոշեք համապատասխանությունը A, B և C բնակավայրերի համար ներկայացված կլիմայական դիագրամների և թվարկված՝ Զուգդիդի, Բիճվինթա (Պիցունդա) և Գուդաուրի քաղաքների միջև (պատասխանները գրեք պատասխանների թերթիկում ներկայացված աղյուսակում):

A բնակավայր	
B բնակավայր	
C բնակավայր	