

Тест по Истории

Инструкция

Перед Вами электронная версия буклета экзаменационного теста.

Внимательно ознакомьтесь с инструкцией к каждому заданию теста, хорошо обдумайте требования, предъявляемые к каждому из заданий, затем приступите к работе.

Максимальный балл теста – 60.

Для выполнения работы Вам отводится 5 часов.

Желаем успеха!



Инструкция для заданий № 1-24.

На каждый вопрос даны четыре возможных ответа. Из них лишь один – правильный. Выберите правильный, на Ваш взгляд, ответ и отметьте его знаком X в соответствующей клетке на листе ответов. Никакой другой знак (горизонтальная или вертикальная линия, обведение клетки и т.п.) электронной программой не воспринимается. Если потребуется изменить уже отмеченный ответ на другой, полностью закрасьте клетку, в которую Вы поставили знак X, а затем отметьте новый вариант ответа, поставив знак X в нужную клетку. Нельзя вторично выбрать ответ, который уже исправлен Вами. Каждое задание оценивается в 1 балл.

1. Какое царство завоевали гиксосы?

а. Ассирийское

б. Вавилонское

в. Египетское

г. Хеттское

2. Памятник какой цивилизации представлен на фото?



а. Ахеменидской

б. Египетской

в. Этрасской

г. Мinoйской

3. Какое море греки называли «Эвксинос Понтос»?

- а. Эгейское
- б. Ионическое
- в. Средиземное
- г. Черное

4. С чем связывалось начало летоисчисления в Древней Греции?

- а. С Олимпийскими играми
- б. Со взятием Трои
- в. С основанием Афин
- г. С возведением святилища Дельфийского оракула

5. Чей конфликт ознаменовал начало эпохи гражданских войн в Риме?

- а. Суллы и Помпея
- б. Кесаря и Сертория
- в. Мария и Суллы
- г. Брута и Кесаря

6. Что явилось одним из основных результатов деятельности императора Траяна?

а. Победа над даками

б. Падение Понтийского царства

в. Победа в Тевтобургской битве

г. Покорение последнего эллинистического государства

7. Что может считаться показателем усиления Картлийского царства при Фарсмане Квели?

- ა. Отражение нашествий скифов-кочевников
- ბ. Присоединение Кларджети и основание Артануджи
- გ. Завладение береговой линией у устья реки Чорохи
- დ. Подчинение новых поселений на берегах Фазиса

8. Что обусловило падение городской жизни на заре Средних веков в Западной Европе?

- а. Падение экономической системы колоната
- б. Перемещение шелкового пути на Восток
- в. Ослабление Византийской империи и нашествия кочевников
- г. Падение Римской империи и Великое переселение народов

9. Какой литературный памятник подтверждает упразднение царской власти в Картли в середине VI века?

- ა. «Мученичество Константи-Кахи»
- ბ. «Житие Серапиона Зарзмели»
- გ. «Мученичество Евстафия Мцхетели»
- დ. «Раскол Грузинской и Армянской церквей»

10. Шииты отличаются от суннитов и тем, что

- а. Начинают отсчет хиджры от кончины Мухаммеда
- б. Среди первых четырех халифов признают только Али
- в. Не признают несколько сур Корана
- г. Не связывают совершение хаджа с Меккой

11. С кем пришлось сразиться сельджукам в начале своих завоевательных походов?

- а. С Багдадским халифатом
- б. С Византийской империей
- в. С Сасанидским царством
- г. С Газневидским государством

12. Что передал Григол Бакурианидзе царю Георгию II от имени Византийской империи?

а. Анакопийскую крепость

б. Звание куропалата

в. Город-крепость Кари

г. Титул магистра

13. Кто из известных грузинских мыслителей занимался научной деятельностью в Гелатской академии в XII веке?

ა. Ефрем Мцире

ბ. Иоанн Петрици

გ. Эквтимэ Мтацминдели

დ. Прохорэ Картвели

14. Кто изображены на фреске Бетанииского храма вместе с царицей Тамар?

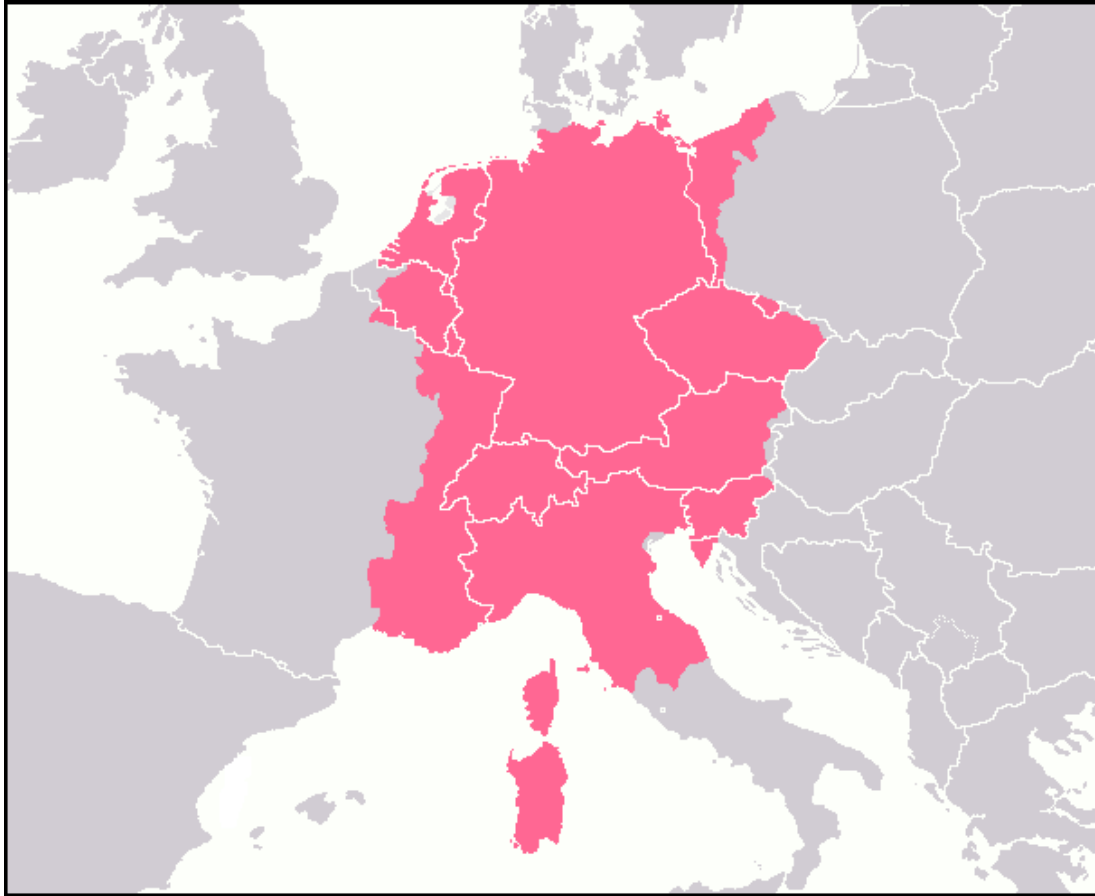


- ა. Деметре I и Георгий III
- ბ. Георгий III и Георгий IV
- გ. Георгий III и Давид Сослан
- დ. Георгий IV и Давид Сослан

15. Что, наряду с другими причинами, обусловило взятие Константинополя крестоносцами?

- а. Ультиматум Ганзейского союза
- б. Договор с Генуей
- в. Просьба империи латинов
- г. Торговые интересы Венеции

16. Период могущества какого государства отражена на карте?



- а. Рейнского союза
- б. Франкского царства
- в. Священной Римской империи
- г. Австро-Венгерской империи

17. «Мы, царь царей Георгий, положили сей определенный памятник в то время, когда вступили с тем, чтобы объехать мтиулов ... и нам стало ведомо, что совершались великие беззакония и насильства в отношении друг друга и из-за легкости крови нипочем почитались вероломный набег-нападение друг на друга, разрушение башен-крепостей, смертоубийство, похищение жен и оставление своей, безвинной, - многообразная улусовщина и не было уже вовсе правосудия».

Какова была главная причина события, описанного в отрывке одного из памятников Грузинского права?

- ა. Ослабление царской власти в результате восстания феодалов
- ბ. Длительное господство монголов в Восточной Грузии
- გ. Анархия, возникшая в результате упразднения иранцами царской власти
- დ. Частые нападения дагестанцев, т.н. «Лекианоба»

18. Что, наряду с другими причинами, способствовало усилению Московского княжества в период монгольского господства?

- а. Деятельность Александра Невского
- б. Введение опричнины
- в. Реформы Владимира Мономаха
- г. Перенесение сюда резиденции митрополита

19. Что способствовало в XVI веке политическому союзу между Францией и Османской империей?

- а. Могущество и огромные владения Габсбургов
- б. Активизация Медичей в Центральной Европе
- в. Объединение Италии династией Савойи
- г. Усиление Германии под управлением Гогенцоллернов

20. Какова одна из причин экономического кризиса, возникшего во Франции при Луи XVI?

- а. Уплата налогов только третьим сословием
- б. Огромные затраты, связанные с Тридцатилетней войной
- в. Внутреннее противостояние различных слоев, вызванное Реформацией
- г. Торможение в развитии сельского хозяйства в результате Жакерии

21. Какое суждение является правильным в связи с событиями Великой французской революции?

а. После казни термидорянцев якобинцы с легкостью одолели никем не поддерживаемых жирондистов

б. После казни короля и королевы якобинцы и жирондисты уничтожили и термидорянцев

в. После казни якобинцев жирондисты одержали победу и над другими противниками и пришли к власти

г. Через несколько месяцев после казни короля жирондисты лишились власти, и к управлению государством пришли якобинцы

22. Кто в 1848-1849 годах участвовал в революционных событиях в Италии?

а. Кавур и Витторио-Эмануил

б. Витторио-Эмануил и Мадзини

в. Мадзини и Гарибальди

г. Гарибальди и Кавур

23. Почему в 10-х годах XX века Балканы считались одним из самых «взрывоопасных» регионов?

а. К взаимным претензиям имеющихся на Балканах малых государств добавлялся интерес к этим регионам Османской империи, Австро-Венгрии и России

б. После распада Австро-Венгерской империи между образовавшимися государствами происходили пограничные столкновения, за которыми стояли Россия и Османская империя

в. Объединение Германии изменило баланс сил, а ее союзники – Хорватия и Словения начали войну с соседней Болгарией, которой покровительствовала Россия

г. К интересам Австро-Венгрии и России к этому богатому полезными ископаемыми региону добавлялась агрессивная по отношению к соседям политика Югославии

24. Какое суждение является верным по отношению к событиям, происходившим в 1988-1989 годах в Восточной Европе?

а. Распад СССР автоматически вызвал падение его сателлитов - коммунистических режимов в других странах социалистического лагеря

б. Начатые в СССР изменения способствовали т.н. бархатным революциям в большинстве социалистических стран Европы

в. Ослабление СССР способствовало свержению в результате вооруженных восстаний коммунистических режимов в Румынии, Польше и Чехословакии

г. Осуществленная в СССР т.н. перестройка позволила странам – членам социалистического лагеря провозгласить независимость

Инструкция к заданиям № 25-28.

Расположите в хронологическом порядке исторические события. Ответы запишите в соответствующие клетки листа ответов. Учтите, что в клетку вписывается лишь цифра, соответствующая названному событию. В первую клетку вписывается цифра, которой отмечено самое раннее событие и т.д. Соответственно, в последнюю, третью клетку следует вписать ту цифру, которой отмечено самое позднее событие. Каждое задание оценивается в 1 балл.

25. Расположите в хронологическом порядке события, произошедшие в государствах Древнего Востока:

1. Взятие города Ниневия войсками мидийцев
2. Взятие Киром II города Экбатаны
3. Взятие города Иерусалима Навуходоносором II

26. Расположите в хронологическом порядке события, произошедшие в Западной Европе в V веке:

1. Принятие франками христианства
2. Падение Западной Римской империи
3. Сражение на Каталаунских полях

27. Расположите в хронологическом порядке события, произошедшие в XVI-XVII веках во Франции:

1. Варфоломеевская ночь
2. Издание Анри IV Нантского эдикта
3. Взятие крепости Ла-Рошель под руководством Ришелье

28. Расположите в хронологическом порядке события, произошедшие в Грузии в 20-е годы XX столетия.

1. Всеобщее грузинское антисоветское восстание
2. Уничтожение «Военного центра»
3. Формирование «Дамкома»


Инструкция к заданию № 29.

Ученику была дана карта. Используя собственный опыт и имеющуюся на карте информацию, он должен был ответить на заданные вопросы.

В двух (2) ответах ученик допустил ошибки.

Вы должны найти ошибки, переписать их в соответствующее место листа ответов и там же приписать правильный ответ. Максимальная оценка задания - 2 балла.

Задание 29. Карта и вопросы - на следующей странице.





Вопросы см. на следующей странице

Вопросы, заданные ученику

29.1. Кто был правителем государства, отмеченного на карте темно-коричневым цветом?

29.2. Какой город был столицей государства Тохтамышша?

29.3. Какой город Грузии избежал вражеских нашествий?

29.4. В какой город Междуречья враг вторгался дважды?

29.5. С каким государством во время похода в Малую Азию пришлось сражаться правителю обозначенного на карте государства?

Ответы ученика

29.1. Хулагу-хан

29.2. Сарай-Берке

29.3. Цхуми

29.4. Багдад

29.5. С Румским султанатом



Инструкция к заданию № 30.

Внимательно проанализируйте данную на иллюстрации информацию и ответьте на вопросы. Ответы запишите в соответствующую графу на листе ответов. Максимальная оценка задания – 7 баллов.

Задание 30. Иллюстрации и вопросы см. на следующих страницах



Задание 30.



Надписи на плакатах: **N1** „Урал фронту“; **N2** „22 июня 1941“; „НКВД“; **N3** „Сталинград“

Вопросы см. на следующей странице

Вопросы:

(2) **30.1.** Какой исторический процесс отражают все три плаката? Назовите государства, где созданы эти плакаты.

(2) **30.2.** Два из данных плакатов служат пропагандистским целям одного государства. Укажите номера этих плакатов и назовите государство. Обязательно обоснуйте Ваше мнение имеющейся на плакатах информацией.

(2) **30.3.** Пропагандистским целям какого государства служит оставшийся плакат? Обязательно обоснуйте Ваше мнение имеющейся на плакате информацией.

(1) **30.4.** Какое из двух названных Вами государств одержало победу в изображенном на плакатах историческом процессе?

Инструкция к заданию № 31. Внимательно прочитайте приведенный ниже исторический документ, осмыслите текст и ответьте на вопросы. Ответы запишите в соответствующем месте на листе ответов. Максимальная оценка задания – 19 баллов.

Задание 31. Исторический документ и вопросы смотрите на следующих страницах



Отрывок из «Картлис Цховреба»

Этот же царь Георгий распространил власть свою над всей вотчиной своей в пору отрочества и юности, ибо стал царем, когда ему было двенадцать лет.

В ту пору отпала от него страна Эрет-Кахети, и с помощью тамошних азнауров были пленены эристави, и завладели страной те же правители, что сначала владели ею.

На седьмом году его правления двинулся на него царь Греции Василий со всей ратью греческой и бесчисленными иноплеменниками. Однако Георгий выступил против него с многочисленным воинством. И много дней оба стояли лагерем на земле Басианской, не вступая друг с другом в сражение. Уклонился царь Георгий, вступил в город Олтиси и сжег его. Оттуда выступил в Колу. Царь Греции Василий стал

Переход к вопросам: [1](#) [2](#) [3](#) [4](#) [5](#) [6](#) [7](#) [8](#) [9](#) [10](#) [11](#)

преследовать его по пятам, оказавшись у него в тылу. Схватились арьергарды войска Георгия и авангарды войска Василия и произошла большая битва в деревне, именуемой Ширимни. Было перебито множество с обеих сторон. Но поздно дошел слух до царя Георгия о том, что идет бой против замыкающих воинов. Тут же по повелению его все войско спешно привело оружие в боевую готовность. Рванулся вперед сам царь Георгий во главе воинов своих, ибо был он отважен и совершенно бесстрашный, словно бестелесный, и вместе с ним множество воинства его. Подоспел и Василий со всем своим войском. Расположились друг против друга и произошла битва мощная. Сокрушили множество греков, захватили трофеи. И затянулась меж ними битва настолько, что царь Василий стал готовиться к бегству.

Продолжение текста смотрите на следующей странице

Но смалодушничали грузины, повернули и двинулись вспять. Настигли их греки и зарубили множество. Достигло войско Артани, захватили и разрушили ее. Когда же царь Георгий отбыл в Триалети. Вновь сошлись они, ибо Георгий укрепился, получив подмогу из Кахети и Эрети, но не дали ему возможности вторично вступить в бой.

Отступил царь Василий из Триалети, прошел опять по Джавахети и Артани. И опять с большой жестокостью разорил эти земли. Ушел и стал на зимовку неподалеку от города Трапезунда. И стали обмениваться они послами для утверждения мира и любви.

Вновь вернулся Василий, вступил в Басиани, стал домогаться земель и крепостей, обещая мира и согласия. Узнав об этом, царь Георгий послал эристава Звиада с

Переход к вопросам: [1](#) [2](#) [3](#) [4](#) [5](#) [6](#) [7](#) [8](#) [9](#) [10](#) [11](#)

его войском и приказал задержать Василия ненадолго на месте разговорами о перемирии, а сам последовал за ним с сильным войском. И размышлял так: «Если пожелает царь Василий мира, да будет так, а если пожелает войны, подготовимся и к ней». А те, кто не желал перемирия, стали готовиться к сражению, И подошли к Василию, готовому к бою и расположенному лагерем. Началось сражение, когда продлился меж ними бой, были обращены в бегство грузинские войска, и грузины отступили, множество грузин было перебито мечами, а некоторых захватили в плен. И захватили большую добычу и царскую казну, которая была при нем.

И вновь по-прежнему приступили к мирным переговорам, ибо больно опасался мятежа в Греции. И

Продолжение текста смотрите на следующей странице

положили мир и договор. Отдал царь Георгий в заложники сына своего трехлетнего Баграта и оставил крепости, а также земли, коими владел Давид куропалат. И удалился царь Василий и увел с собой заложником царевича Баграта, дав клятвенный обет: «На третий год верну сына твоего». И был он в течение трех лет в царственном граде Константинополе. И на третий же год вернул, как и обещал.

Когда он возвращался в вотчину и царство свое, то его сопровождал катепан востока до рубежей его вотчины. Но как только тот повернул обратно, его настиг мандатур и предъявил катепану письмо царя Константина, в котором было писано следующим образом: «Волей божией преставился желанный брат мой, царь Василий и вместо него царем всей Греции

Переход к вопросам: [1](#) [2](#) [3](#) [4](#) [5](#) [6](#) [7](#) [8](#) [9](#) [10](#) [11](#)

становлюсь я. И каких бы пределов моих владений ни достиг Баграт, сын государя абхазов Георгия, верните его с поспешностью великой, дабы предстал он пред нами».

Когда же он прочел повеление царя, то мгновенно вернулся, дабы настичь. Когда же он приблизился, то увидел, какое великое множество предстало пред ним: вельможные эриставы и азнауры таойские, месхи и картвели, числу коих не было предела. Тогда отошел он в сторону и сказал подоспевшему мандатуре: «Ежели ты в силах, увези его, мне же сделать это теперь невозможно».

Когда же он уже предстал пред отцом своим царем Георгием в доме его в Кутатиси. Узрев его, возрадовались несказанно и благодарствовали бога. Стоял в ту пору кроникон двести сорок пятый.

Продолжение текста смотрите на следующей странице

После этого отправился патриарх Мелхиседек к царю Константину в Константинополь. Принял его царь греков Константин и передал украшения для церквей, иконы и кресты. Пришёл в свою страну и паству и купил сёла в Тао, Кларджети, Джавахети и Кола и пожертвовал святой столице Мцхета, столбу Животворящему.

Спустя два года, в лета почти молодые, преставился царь Георгий, преисполненный всякой добродетели, подобного которому не было среди предков его: по силе, молодечеству, храбрости, статью и ликом, познаниями, совершенный в управлении царством; в кроникон двести сорок восьмой, в августе шестнадцатого дня, на Триалетской земле, в местечке, что именуется Мкинвари или Ицрони. И оставил он по себе людям своей вотчины и царства скорбь и печаль. Скорбели все о добродетели,

Переход к вопросам: [1](#) [2](#) [3](#) [4](#) [5](#) [6](#) [7](#) [8](#) [9](#) [10](#) [11](#)

юности и доблести его. Понесли его и погребли в храме в Кутатиси.

Осталось у него четверо детей: сыновья Баграт и Деметрэ, да дочери Гурандухт и Ката; пятое дитя его Марфа была усопшей. После смерти великого царя Георгия девятилетний Баграт тут же был возведен в государи всей вотчины и царства своего.

Вопросы смотрите на следующей странице

Вопросы:

(1) **31.1.** Кто, согласно источнику, осуществлял местное управление в Кахети-Эрети после того, как эти области оказались под властью Баграта III?

(1) **31.2.** Если бы Вы были дидебулом царя Георгия, посоветовали бы Вы ему продолжить борьбу после Ширимнской битвы, когда к нему на помощь прибыли новые силы? Обязательно аргументируйте свое мнение.

(1) **31.3.** Уроженцев какого края Грузии подразумевает летописец под «азнаурами картвели»?

Переход [к 1 странице](#) текста документа

Переход [ко 2 странице](#) текста документа

Переход [к 3 странице](#) текста документа

Переход [к 4 странице](#) текста документа

- (1) **31.4.** В каком году, согласно источнику, вернулся царевич Баграт на родину? Обоснуйте свой ответ, опираясь на информацию источника.
- (2) **31.5.** Кто, согласно источнику, был инициатором перемирия, и по какой причине он спешил его заключить?
- (2) **31.6.** Какую «страну» (назовите конкретную историческую область) требовал царь Василий и на каком основании?
- (2) **31.7.** Какие условия, согласно источнику, пришлось выполнить царю Георгию после поражения в сражениях?

Переход [к 1 странице](#) текста документа

Переход [ко 2 странице](#) текста документа

Переход [к 3 странице](#) текста документа

Переход [к 4 странице](#) текста документа

- (2) **31.8.** Приведите две цитаты из источника, которые подтверждают, что в царстве царя Георгия были и сторонники, и противники борьбы с Василием?
- (2) **31.9.** Что, согласно источнику, явилось конкретной причиной того, что «катепану востока» был выслан новый приказ, и почему он не смог его выполнить?
- (2) **31.10.** Каким конкретным результатом завершился визит патриарха в Константинополь и какой, на Ваш взгляд, политический или культурный аспект определил такое завершение визита?
- (3) **31.11.** Опираясь на данную в источнике информацию, выделите три этапа битвы у Ширимни.
(Обязательно пронумеруйте этапы битвы на листе ответов.)

Переход [к 1 странице](#) текста документа

Переход [ко 2 странице](#) текста документа

Переход [к 3 странице](#) текста документа

Переход [к 4 странице](#) текста документа

Инструкция к заданию № 32. Внимательно прочитайте данное ниже задание и ответьте на вопросы. Вопросы запишите в соответствующее место на листе ответов. На каждый ответ дайте полный, исчерпывающий ответ. Максимальная оценка задания – 4 балла.

Задание 32. Определение темы дискуссии

(1) **32.1.** При рассмотрении какой конкретной темы Вы бы использовали исторический источник задания №31, отрывок из «Картлис цховреба»?

(1) **32.2.** С учетом основного вопроса темы урока сформулируйте заголовок темы для дискуссии.

(2) **32.3.** Сформулируйте две альтернативные позиции, которые могут возникнуть в процессе дискуссии.